

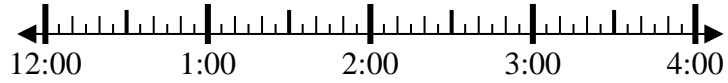


**Resuelve cada problema.**

1) Inicio: 12:15

Transcurrido: 1 hr y 35 mins

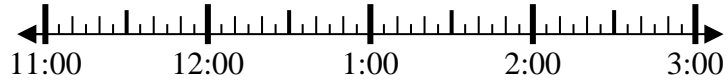
Final: \_\_\_\_\_



2) Inicio: 11:30

Transcurrido: 1 hr y 25 mins

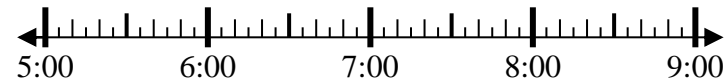
Final: \_\_\_\_\_



3) Inicio: 5:10

Transcurrido: 1 hr y 35 mins

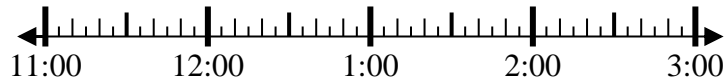
Final: \_\_\_\_\_



4) Inicio: 11:00

Transcurrido: 1 hr y 10 mins

Final: \_\_\_\_\_



5) Inicio: 12:30

Transcurrido: 1 hr y 10 mins

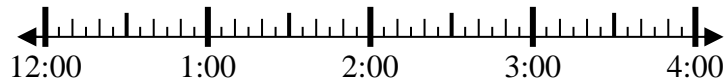
Final: \_\_\_\_\_



6) Inicio: 12:40

Transcurrido: 1 hr y 25 mins

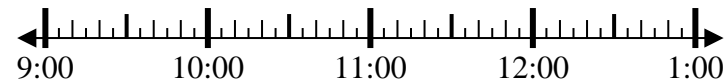
Final: \_\_\_\_\_



7) Inicio: 9:40

Transcurrido: 1 hr y 50 mins

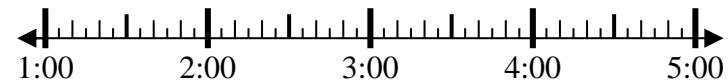
Final: \_\_\_\_\_



8) Inicio: 1:35

Transcurrido: 2 hrs y 45 mins

Final: \_\_\_\_\_



**Respuestas**

1. \_\_\_\_\_
2. \_\_\_\_\_
3. \_\_\_\_\_
4. \_\_\_\_\_
5. \_\_\_\_\_
6. \_\_\_\_\_
7. \_\_\_\_\_
8. \_\_\_\_\_



Resuelve cada problema.

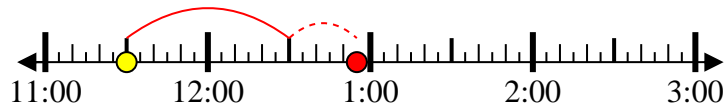
1) Inicio: 12:15

Transcurrido: 1 hr y 35 mins

Final: 1:50

2) Inicio: 11:30

Transcurrido: 1 hr y 25 mins

Final: 12:55

3) Inicio: 5:10

Transcurrido: 1 hr y 35 mins

Final: 6:45

4) Inicio: 11:00

Transcurrido: 1 hr y 10 mins

Final: 12:10

5) Inicio: 12:30

Transcurrido: 1 hr y 10 mins

Final: 1:40

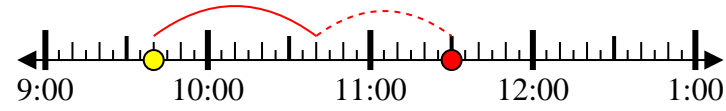
6) Inicio: 12:40

Transcurrido: 1 hr y 25 mins

Final: 2:05

7) Inicio: 9:40

Transcurrido: 1 hr y 50 mins

Final: 11:30

8) Inicio: 1:35

Transcurrido: 2 hrs y 45 mins

Final: 4:20**Respuestas**1. 1:502. 12:553. 6:454. 12:105. 1:406. 2:057. 11:308. 4:20