

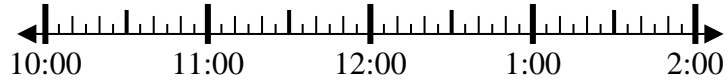


Resuelve cada problema.

1) Inicio: 10:50

Transcurrido: 2 hrs y 30 mins

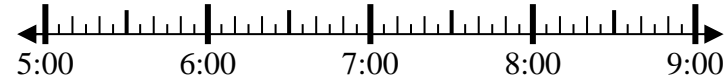
Final: _____



2) Inicio: 5:10

Transcurrido: 1 hr y 25 mins

Final: _____



3) Inicio: 11:40

Transcurrido: 1 hr y 35 mins

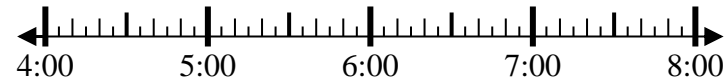
Final: _____



4) Inicio: 4:20

Transcurrido: 2 hrs y 15 mins

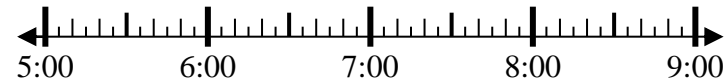
Final: _____



5) Inicio: 5:15

Transcurrido: 2 hrs y 25 mins

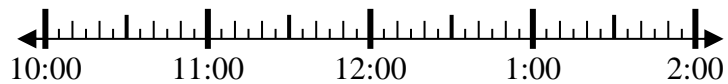
Final: _____



6) Inicio: 10:20

Transcurrido: 2 hrs y 35 mins

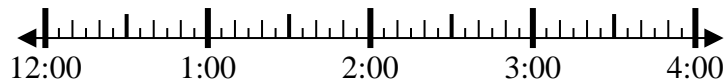
Final: _____



7) Inicio: 12:45

Transcurrido: 2 hrs y 50 mins

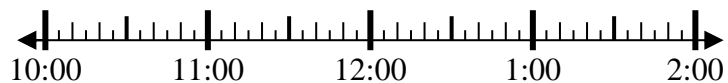
Final: _____



8) Inicio: 10:40

Transcurrido: 1 hr y 30 mins

Final: _____



Respuestas

1. _____

2. _____

3. _____

4. _____

5. _____

6. _____

7. _____

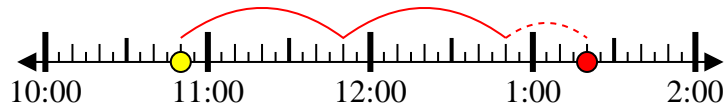
8. _____



Resuelve cada problema.

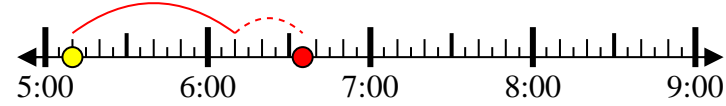
1) Inicio: 10:50

Transcurrido: 2 hrs y 30 mins

Final: 1:20

2) Inicio: 5:10

Transcurrido: 1 hr y 25 mins

Final: 6:35

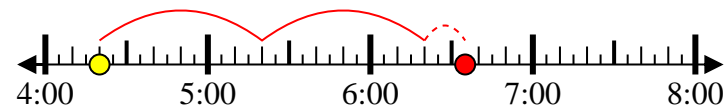
3) Inicio: 11:40

Transcurrido: 1 hr y 35 mins

Final: 1:15

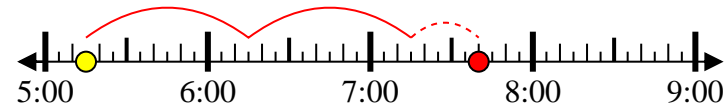
4) Inicio: 4:20

Transcurrido: 2 hrs y 15 mins

Final: 6:35

5) Inicio: 5:15

Transcurrido: 2 hrs y 25 mins

Final: 7:40

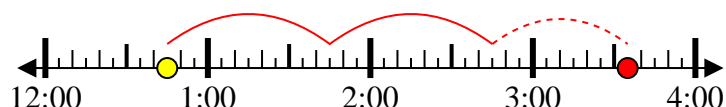
6) Inicio: 10:20

Transcurrido: 2 hrs y 35 mins

Final: 12:55

7) Inicio: 12:45

Transcurrido: 2 hrs y 50 mins

Final: 3:35

8) Inicio: 10:40

Transcurrido: 1 hr y 30 mins

Final: 12:10**Respuestas**1. 1:202. 6:353. 1:154. 6:355. 7:406. 12:557. 3:358. 12:10