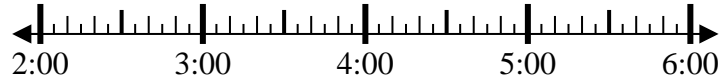


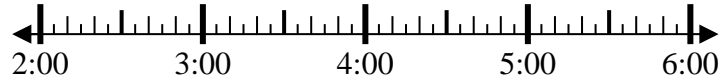


Resuelve cada problema.

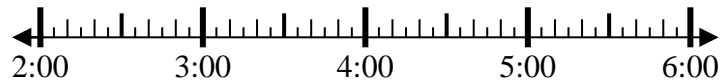
1) Inicio: 2:15
 Transcurrido: 1 hr y 40 mins
 Final: _____



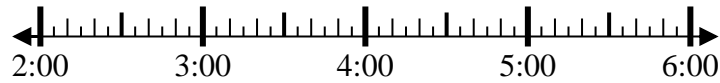
2) Inicio: 2:10
 Transcurrido: 2 hrs y 45 mins
 Final: _____



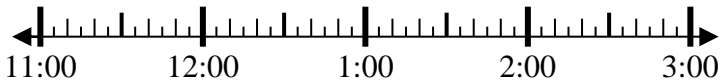
3) Inicio: 2:45
 Transcurrido: 2 hrs y 10 mins
 Final: _____



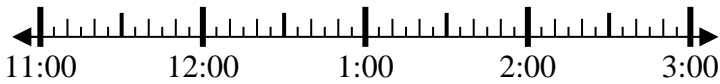
4) Inicio: 2:20
 Transcurrido: 1 hr y 20 mins
 Final: _____



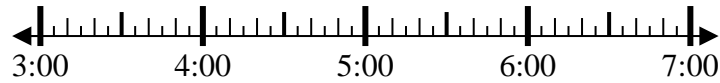
5) Inicio: 11:05
 Transcurrido: 2 hrs y 25 mins
 Final: _____



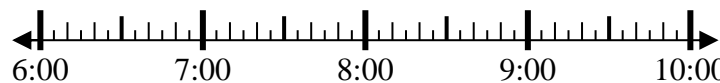
6) Inicio: 11:05
 Transcurrido: 2 hrs y 20 mins
 Final: _____



7) Inicio: 3:45
 Transcurrido: 2 hrs y 20 mins
 Final: _____



8) Inicio: 6:20
 Transcurrido: 1 hr y 30 mins
 Final: _____



Respuestas

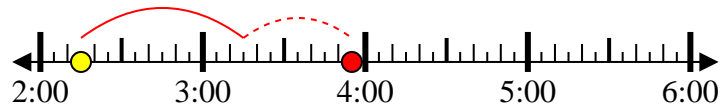
1. _____
2. _____
3. _____
4. _____
5. _____
6. _____
7. _____
8. _____



Resuelve cada problema.

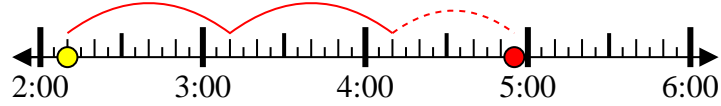
1) Inicio: 2:15

Transcurrido: 1 hr y 40 mins

Final: 3:55

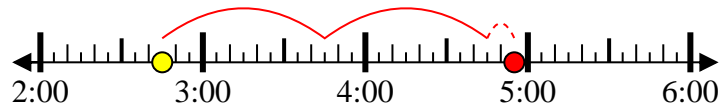
2) Inicio: 2:10

Transcurrido: 2 hrs y 45 mins

Final: 4:55

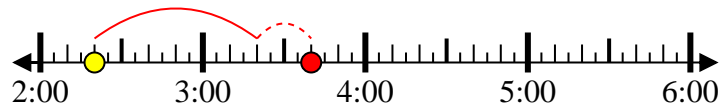
3) Inicio: 2:45

Transcurrido: 2 hrs y 10 mins

Final: 4:55

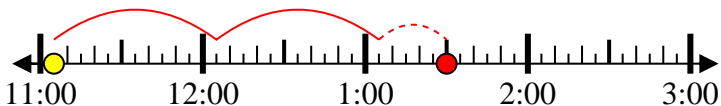
4) Inicio: 2:20

Transcurrido: 1 hr y 20 mins

Final: 3:40

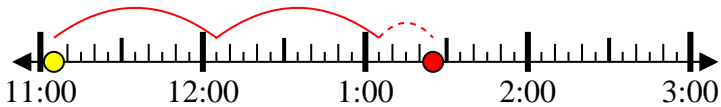
5) Inicio: 11:05

Transcurrido: 2 hrs y 25 mins

Final: 1:30

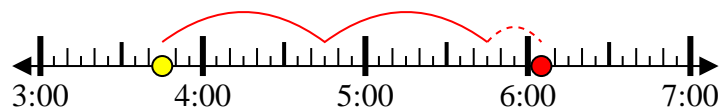
6) Inicio: 11:05

Transcurrido: 2 hrs y 20 mins

Final: 1:25

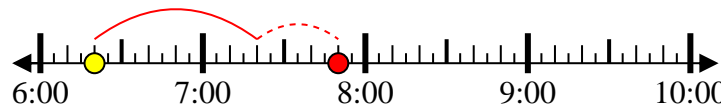
7) Inicio: 3:45

Transcurrido: 2 hrs y 20 mins

Final: 6:05

8) Inicio: 6:20

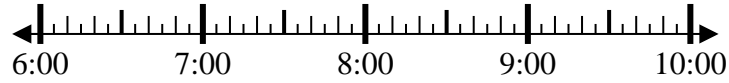
Transcurrido: 1 hr y 30 mins

Final: 7:50**Respuestas**1. 3:552. 4:553. 4:554. 3:405. 1:306. 1:257. 6:058. 7:50

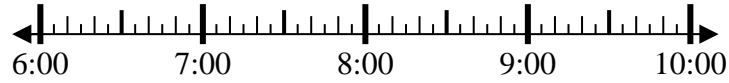


Resuelve cada problema.

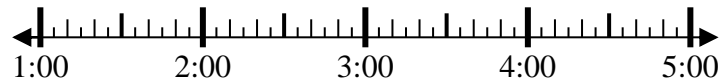
1) Inicio: 6:45
 Transcurrido: 1 hr y 10 mins
 Final: _____



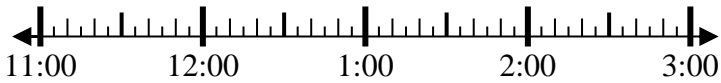
2) Inicio: 6:25
 Transcurrido: 2 hrs y 40 mins
 Final: _____



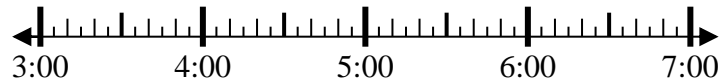
3) Inicio: 1:10
 Transcurrido: 1 hr y 50 mins
 Final: _____



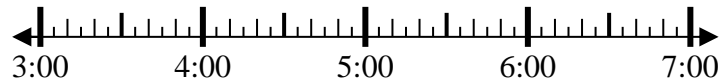
4) Inicio: 11:15
 Transcurrido: 1 hr y 45 mins
 Final: _____



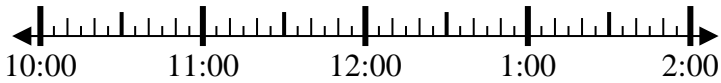
5) Inicio: 3:25
 Transcurrido: 2 hrs y 10 mins
 Final: _____



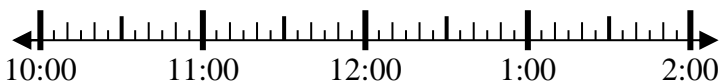
6) Inicio: 3:20
 Transcurrido: 2 hrs y 35 mins
 Final: _____



7) Inicio: 10:35
 Transcurrido: 1 hr y 50 mins
 Final: _____



8) Inicio: 10:00
 Transcurrido: 1 hr y 30 mins
 Final: _____



Respuestas

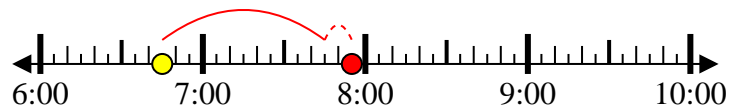
1. _____
2. _____
3. _____
4. _____
5. _____
6. _____
7. _____
8. _____



Resuelve cada problema.

1) Inicio: 6:45

Transcurrido: 1 hr y 10 mins

Final: 7:55

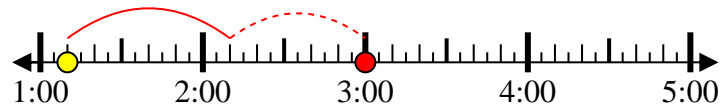
2) Inicio: 6:25

Transcurrido: 2 hrs y 40 mins

Final: 9:05

3) Inicio: 1:10

Transcurrido: 1 hr y 50 mins

Final: 3:00

4) Inicio: 11:15

Transcurrido: 1 hr y 45 mins

Final: 1:00

5) Inicio: 3:25

Transcurrido: 2 hrs y 10 mins

Final: 5:35

6) Inicio: 3:20

Transcurrido: 2 hrs y 35 mins

Final: 5:55

7) Inicio: 10:35

Transcurrido: 1 hr y 50 mins

Final: 12:25

8) Inicio: 10:00

Transcurrido: 1 hr y 30 mins

Final: 11:30**Respuestas**1. 7:552. 9:053. 3:004. 1:005. 5:356. 5:557. 12:258. 11:30

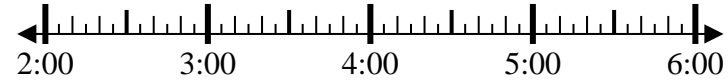


Resuelve cada problema.

1) Inicio: 2:00

Transcurrido: 1 hr y 45 mins

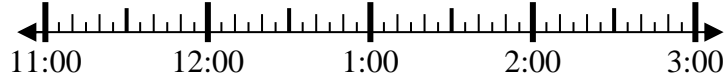
Final: _____



2) Inicio: 11:35

Transcurrido: 2 hrs y 45 mins

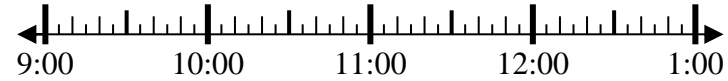
Final: _____



3) Inicio: 9:00

Transcurrido: 1 hr y 10 mins

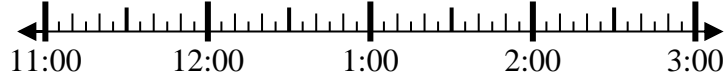
Final: _____



4) Inicio: 11:45

Transcurrido: 1 hr y 20 mins

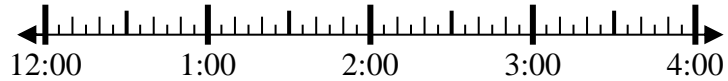
Final: _____



5) Inicio: 12:20

Transcurrido: 1 hr y 15 mins

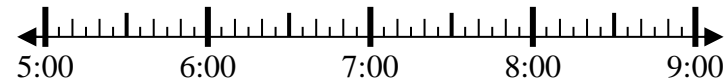
Final: _____



6) Inicio: 5:25

Transcurrido: 1 hr y 10 mins

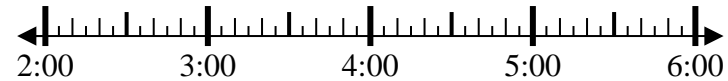
Final: _____



7) Inicio: 2:35

Transcurrido: 1 hr y 45 mins

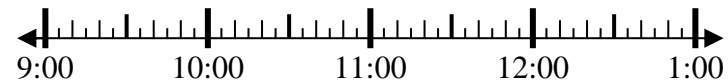
Final: _____



8) Inicio: 9:35

Transcurrido: 2 hrs y 45 mins

Final: _____



Respuestas

1. _____

2. _____

3. _____

4. _____

5. _____

6. _____

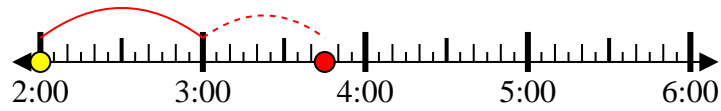
7. _____

8. _____

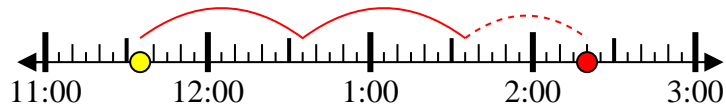


Resuelve cada problema.

- 1) Inicio: 2:00
 Transcurrido: 1 hr y 45 mins
 Final: 3:45



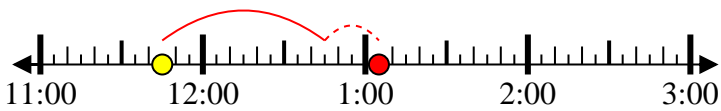
- 2) Inicio: 11:35
 Transcurrido: 2 hrs y 45 mins
 Final: 2:20



- 3) Inicio: 9:00
 Transcurrido: 1 hr y 10 mins
 Final: 10:10



- 4) Inicio: 11:45
 Transcurrido: 1 hr y 20 mins
 Final: 1:05



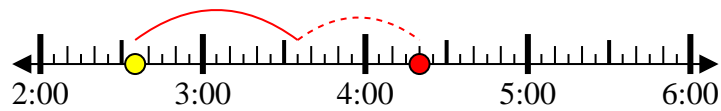
- 5) Inicio: 12:20
 Transcurrido: 1 hr y 15 mins
 Final: 1:35



- 6) Inicio: 5:25
 Transcurrido: 1 hr y 10 mins
 Final: 6:35



- 7) Inicio: 2:35
 Transcurrido: 1 hr y 45 mins
 Final: 4:20



- 8) Inicio: 9:35
 Transcurrido: 2 hrs y 45 mins
 Final: 12:20

**Respuestas**

1. 3:45
 2. 2:20
 3. 10:10
 4. 1:05
 5. 1:35
 6. 6:35
 7. 4:20
 8. 12:20

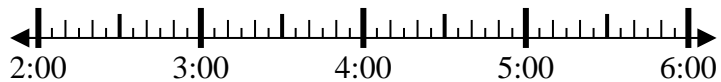


Resuelve cada problema.

1) Inicio: 2:50

Transcurrido: 2 hrs y 50 mins

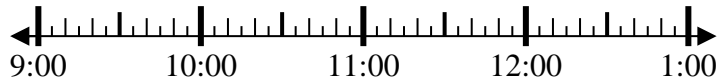
Final: _____



2) Inicio: 9:10

Transcurrido: 1 hr y 10 mins

Final: _____



3) Inicio: 7:05

Transcurrido: 1 hr y 15 mins

Final: _____



4) Inicio: 3:00

Transcurrido: 1 hr y 15 mins

Final: _____



5) Inicio: 7:15

Transcurrido: 1 hr y 40 mins

Final: _____



6) Inicio: 5:00

Transcurrido: 2 hrs y 15 mins

Final: _____



7) Inicio: 1:00

Transcurrido: 2 hrs y 45 mins

Final: _____



8) Inicio: 4:35

Transcurrido: 1 hr y 20 mins

Final: _____



Respuestas

1. _____

2. _____

3. _____

4. _____

5. _____

6. _____

7. _____

8. _____



Resuelve cada problema.

- 1) Inicio: 2:50
Transcurrido: 2 hrs y 50 mins
Final: 5:40
-
- 2) Inicio: 9:10
Transcurrido: 1 hr y 10 mins
Final: 10:20
-
- 3) Inicio: 7:05
Transcurrido: 1 hr y 15 mins
Final: 8:20
-
- 4) Inicio: 3:00
Transcurrido: 1 hr y 15 mins
Final: 4:15
-
- 5) Inicio: 7:15
Transcurrido: 1 hr y 40 mins
Final: 8:55
-
- 6) Inicio: 5:00
Transcurrido: 2 hrs y 15 mins
Final: 7:15
-
- 7) Inicio: 1:00
Transcurrido: 2 hrs y 45 mins
Final: 3:45
-
- 8) Inicio: 4:35
Transcurrido: 1 hr y 20 mins
Final: 5:55
-

Respuestas

1. 5:40
2. 10:20
3. 8:20
4. 4:15
5. 8:55
6. 7:15
7. 3:45
8. 5:55

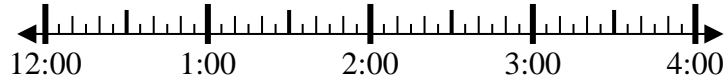


Resuelve cada problema.

1) Inicio: 12:10

Transcurrido: 1 hr y 25 mins

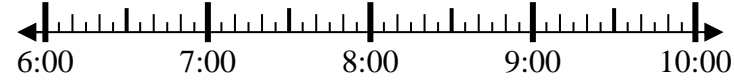
Final: _____



2) Inicio: 6:40

Transcurrido: 2 hrs y 10 mins

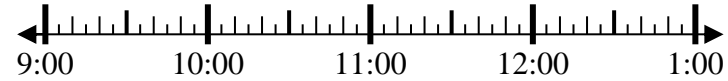
Final: _____



3) Inicio: 9:05

Transcurrido: 2 hrs y 50 mins

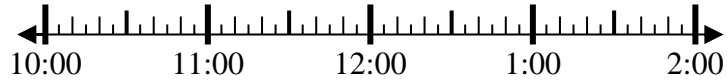
Final: _____



4) Inicio: 10:45

Transcurrido: 2 hrs y 40 mins

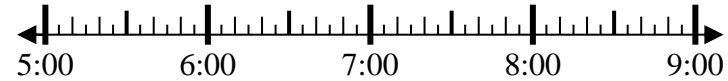
Final: _____



5) Inicio: 5:35

Transcurrido: 1 hr y 30 mins

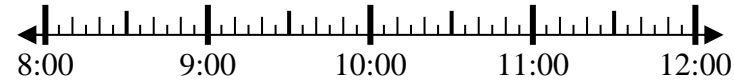
Final: _____



6) Inicio: 8:15

Transcurrido: 2 hrs y 25 mins

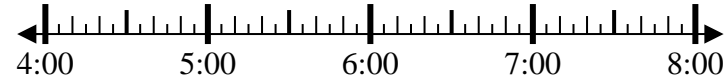
Final: _____



7) Inicio: 4:10

Transcurrido: 2 hrs y 55 mins

Final: _____



8) Inicio: 4:00

Transcurrido: 2 hrs y 20 mins

Final: _____



Respuestas

1. _____

2. _____

3. _____

4. _____

5. _____

6. _____

7. _____

8. _____



Resuelve cada problema.

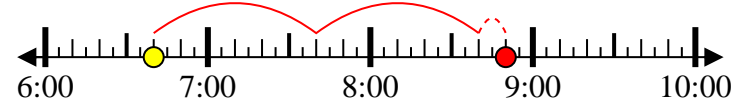
1) Inicio: 12:10

Transcurrido: 1 hr y 25 mins

Final: 1:35

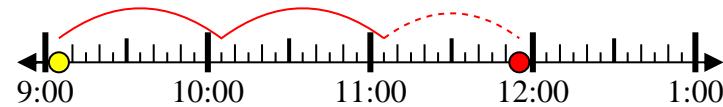
2) Inicio: 6:40

Transcurrido: 2 hrs y 10 mins

Final: 8:50

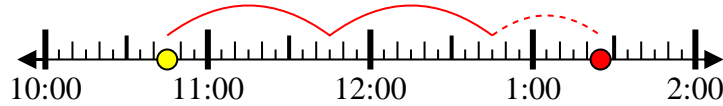
3) Inicio: 9:05

Transcurrido: 2 hrs y 50 mins

Final: 11:55

4) Inicio: 10:45

Transcurrido: 2 hrs y 40 mins

Final: 1:25

5) Inicio: 5:35

Transcurrido: 1 hr y 30 mins

Final: 7:05

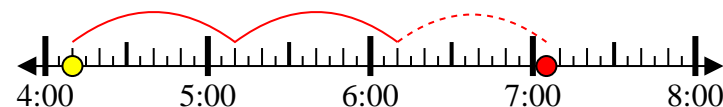
6) Inicio: 8:15

Transcurrido: 2 hrs y 25 mins

Final: 10:40

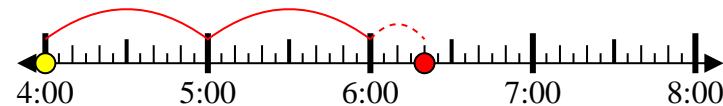
7) Inicio: 4:10

Transcurrido: 2 hrs y 55 mins

Final: 7:05

8) Inicio: 4:00

Transcurrido: 2 hrs y 20 mins

Final: 6:20**Respuestas**1. 1:352. 8:503. 11:554. 1:255. 7:056. 10:407. 7:058. 6:20

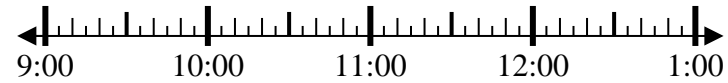


Resuelve cada problema.

1) Inicio: 9:35

Transcurrido: 2 hrs y 30 mins

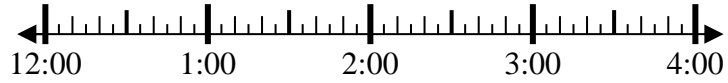
Final: _____



2) Inicio: 12:50

Transcurrido: 1 hr y 45 mins

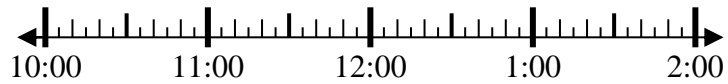
Final: _____



3) Inicio: 10:15

Transcurrido: 1 hr y 25 mins

Final: _____



4) Inicio: 6:25

Transcurrido: 1 hr y 45 mins

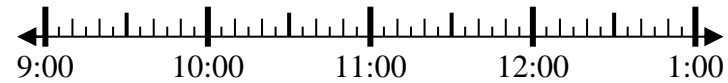
Final: _____



5) Inicio: 9:10

Transcurrido: 1 hr y 15 mins

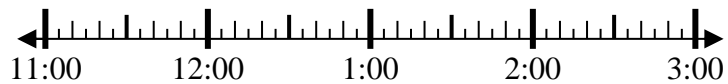
Final: _____



6) Inicio: 11:45

Transcurrido: 2 hrs y 15 mins

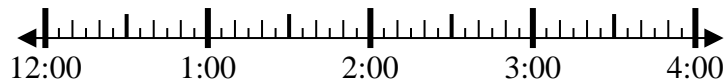
Final: _____



7) Inicio: 12:20

Transcurrido: 1 hr y 40 mins

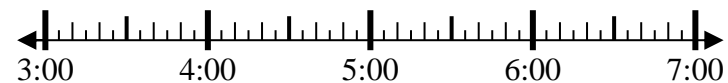
Final: _____



8) Inicio: 3:35

Transcurrido: 1 hr y 40 mins

Final: _____



Respuestas

1. _____

2. _____

3. _____

4. _____

5. _____

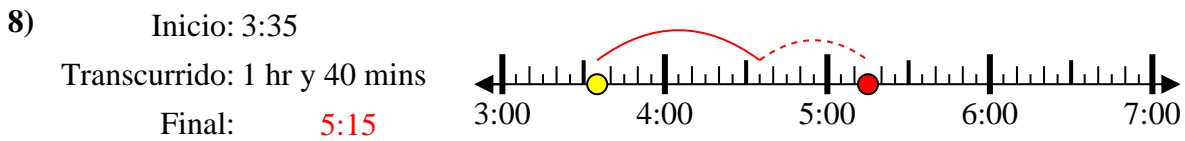
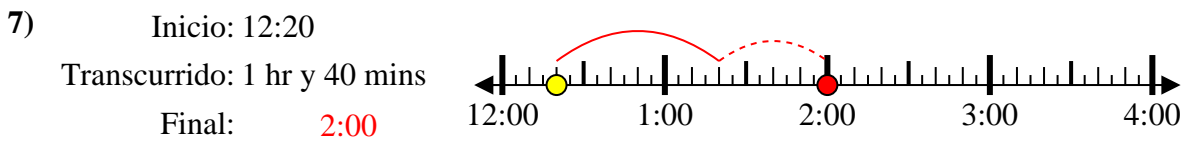
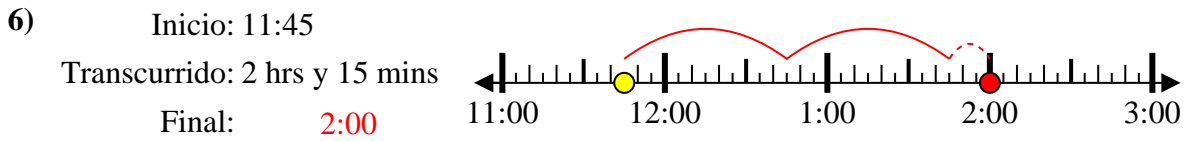
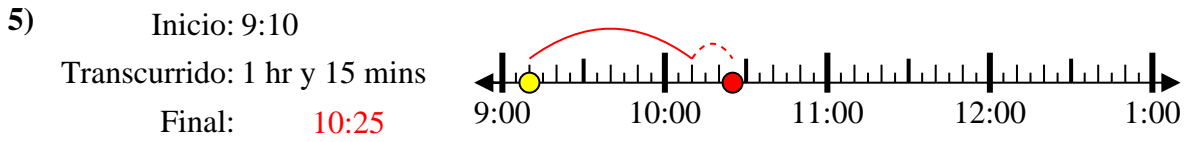
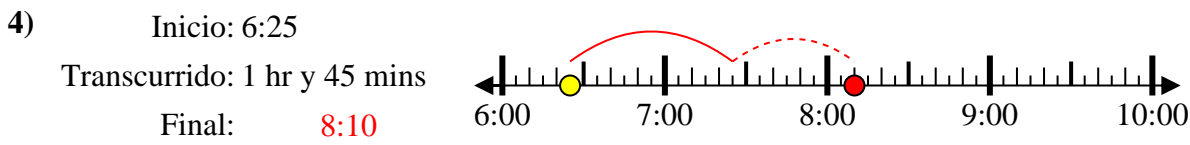
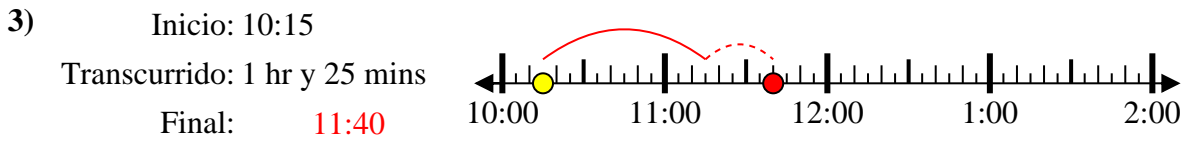
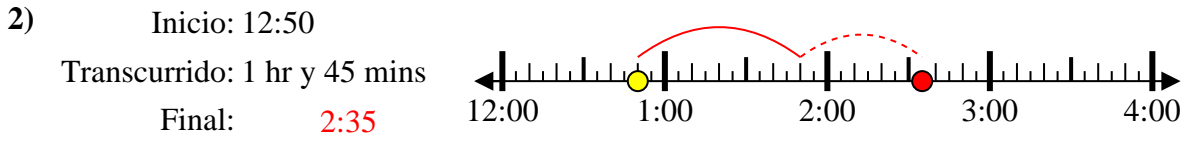
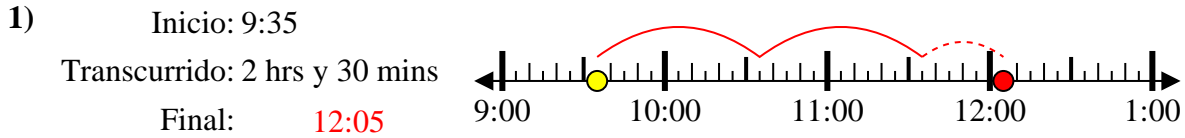
6. _____

7. _____

8. _____

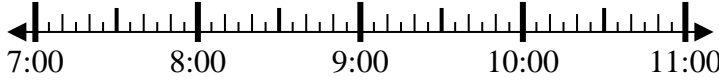



Resuelve cada problema.


**Respuestas**1. 12:052. 2:353. 11:404. 8:105. 10:256. 2:007. 2:008. 5:15




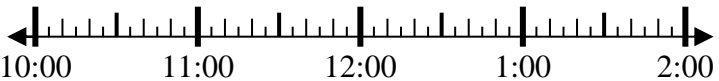
Resuelve cada problema.


- 1) Inicio: 7:05
 Transcurrido: 2 hrs y 20 mins
 Final: _____



- 2) Inicio: 5:25
 Transcurrido: 2 hrs y 20 mins
 Final: _____



- 3) Inicio: 4:15
 Transcurrido: 1 hr y 35 mins
 Final: _____


- 4) Inicio: 12:05
 Transcurrido: 2 hrs y 40 mins
 Final: _____


- 5) Inicio: 10:05
 Transcurrido: 1 hr y 45 mins
 Final: _____


- 6) Inicio: 11:45
 Transcurrido: 2 hrs y 15 mins
 Final: _____


- 7) Inicio: 5:25
 Transcurrido: 1 hr y 40 mins
 Final: _____


- 8) Inicio: 1:25
 Transcurrido: 1 hr y 15 mins
 Final: _____


Respuestas

1. _____
2. _____
3. _____
4. _____
5. _____
6. _____
7. _____
8. _____



Resuelve cada problema.

- 1) Inicio: 7:05
Transcurrido: 2 hrs y 20 mins
Final: 9:25
-
- 2) Inicio: 5:25
Transcurrido: 2 hrs y 20 mins
Final: 7:45
-
- 3) Inicio: 4:15
Transcurrido: 1 hr y 35 mins
Final: 5:50
-
- 4) Inicio: 12:05
Transcurrido: 2 hrs y 40 mins
Final: 2:45
-
- 5) Inicio: 10:05
Transcurrido: 1 hr y 45 mins
Final: 11:50
-
- 6) Inicio: 11:45
Transcurrido: 2 hrs y 15 mins
Final: 2:00
-
- 7) Inicio: 5:25
Transcurrido: 1 hr y 40 mins
Final: 7:05
-
- 8) Inicio: 1:25
Transcurrido: 1 hr y 15 mins
Final: 2:40
-

Respuestas

1. 9:25
2. 7:45
3. 5:50
4. 2:45
5. 11:50
6. 2:00
7. 7:05
8. 2:40



Resuelve cada problema.

1) Inicio: 12:15

Transcurrido: 1 hr y 35 mins

Final: _____



2) Inicio: 11:30

Transcurrido: 1 hr y 25 mins

Final: _____



3) Inicio: 5:10

Transcurrido: 1 hr y 35 mins

Final: _____



4) Inicio: 11:00

Transcurrido: 1 hr y 10 mins

Final: _____



5) Inicio: 12:30

Transcurrido: 1 hr y 10 mins

Final: _____



6) Inicio: 12:40

Transcurrido: 1 hr y 25 mins

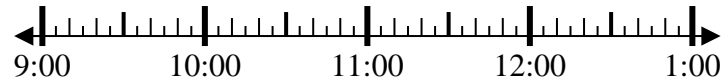
Final: _____



7) Inicio: 9:40

Transcurrido: 1 hr y 50 mins

Final: _____



8) Inicio: 1:35

Transcurrido: 2 hrs y 45 mins

Final: _____



Respuestas

1. _____

2. _____

3. _____

4. _____

5. _____

6. _____

7. _____

8. _____



Resuelve cada problema.

1) Inicio: 12:15

Transcurrido: 1 hr y 35 mins

Final: 1:50

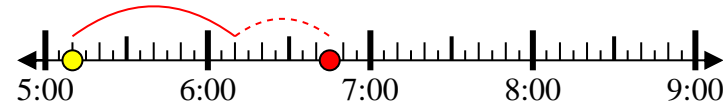
2) Inicio: 11:30

Transcurrido: 1 hr y 25 mins

Final: 12:55

3) Inicio: 5:10

Transcurrido: 1 hr y 35 mins

Final: 6:45

4) Inicio: 11:00

Transcurrido: 1 hr y 10 mins

Final: 12:10

5) Inicio: 12:30

Transcurrido: 1 hr y 10 mins

Final: 1:40

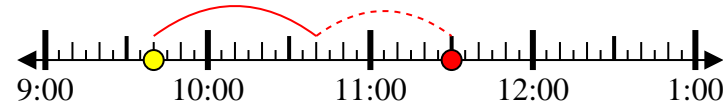
6) Inicio: 12:40

Transcurrido: 1 hr y 25 mins

Final: 2:05

7) Inicio: 9:40

Transcurrido: 1 hr y 50 mins

Final: 11:30

8) Inicio: 1:35

Transcurrido: 2 hrs y 45 mins

Final: 4:20**Respuestas**1. 1:502. 12:553. 6:454. 12:105. 1:406. 2:057. 11:308. 4:20

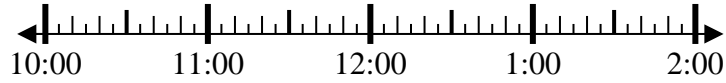


Resuelve cada problema.

1) Inicio: 10:50

Transcurrido: 2 hrs y 30 mins

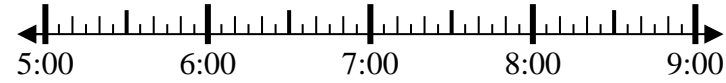
Final: _____



2) Inicio: 5:10

Transcurrido: 1 hr y 25 mins

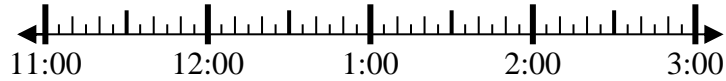
Final: _____



3) Inicio: 11:40

Transcurrido: 1 hr y 35 mins

Final: _____



4) Inicio: 4:20

Transcurrido: 2 hrs y 15 mins

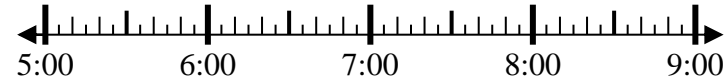
Final: _____



5) Inicio: 5:15

Transcurrido: 2 hrs y 25 mins

Final: _____



6) Inicio: 10:20

Transcurrido: 2 hrs y 35 mins

Final: _____



7) Inicio: 12:45

Transcurrido: 2 hrs y 50 mins

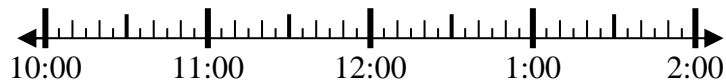
Final: _____



8) Inicio: 10:40

Transcurrido: 1 hr y 30 mins

Final: _____



Respuestas

1. _____

2. _____

3. _____

4. _____

5. _____

6. _____

7. _____

8. _____



Resuelve cada problema.

- 1) Inicio: 10:50
Transcurrido: 2 hrs y 30 mins
Final: 1:20
-
- 2) Inicio: 5:10
Transcurrido: 1 hr y 25 mins
Final: 6:35
-
- 3) Inicio: 11:40
Transcurrido: 1 hr y 35 mins
Final: 1:15
-
- 4) Inicio: 4:20
Transcurrido: 2 hrs y 15 mins
Final: 6:35
-
- 5) Inicio: 5:15
Transcurrido: 2 hrs y 25 mins
Final: 7:40
-
- 6) Inicio: 10:20
Transcurrido: 2 hrs y 35 mins
Final: 12:55
-
- 7) Inicio: 12:45
Transcurrido: 2 hrs y 50 mins
Final: 3:35
-
- 8) Inicio: 10:40
Transcurrido: 1 hr y 30 mins
Final: 12:10
-

Respuestas

1. 1:20
2. 6:35
3. 1:15
4. 6:35
5. 7:40
6. 12:55
7. 3:35
8. 12:10

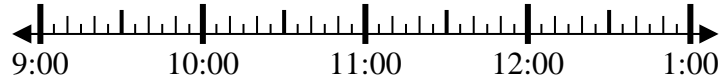


Resuelve cada problema.

1) Inicio: 9:20

Transcurrido: 1 hr y 25 mins

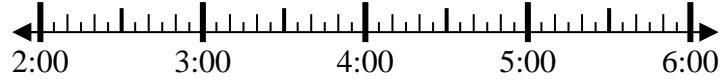
Final: _____



2) Inicio: 2:00

Transcurrido: 2 hrs y 55 mins

Final: _____



3) Inicio: 7:40

Transcurrido: 2 hrs y 15 mins

Final: _____



4) Inicio: 7:15

Transcurrido: 1 hr y 10 mins

Final: _____



5) Inicio: 11:15

Transcurrido: 2 hrs y 25 mins

Final: _____



6) Inicio: 5:30

Transcurrido: 1 hr y 25 mins

Final: _____



7) Inicio: 12:00

Transcurrido: 2 hrs y 40 mins

Final: _____



8) Inicio: 12:15

Transcurrido: 1 hr y 20 mins

Final: _____



Respuestas

1. _____

2. _____

3. _____

4. _____

5. _____

6. _____

7. _____

8. _____



Resuelve cada problema.

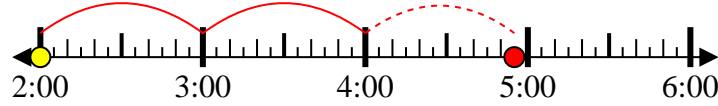
1) Inicio: 9:20

Transcurrido: 1 hr y 25 mins

Final: 10:45

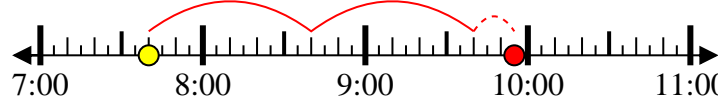
2) Inicio: 2:00

Transcurrido: 2 hrs y 55 mins

Final: 4:55

3) Inicio: 7:40

Transcurrido: 2 hrs y 15 mins

Final: 9:55

4) Inicio: 7:15

Transcurrido: 1 hr y 10 mins

Final: 8:25

5) Inicio: 11:15

Transcurrido: 2 hrs y 25 mins

Final: 1:40

6) Inicio: 5:30

Transcurrido: 1 hr y 25 mins

Final: 6:55

7) Inicio: 12:00

Transcurrido: 2 hrs y 40 mins

Final: 2:40

8) Inicio: 12:15

Transcurrido: 1 hr y 20 mins

Final: 1:35**Respuestas**1. 10:452. 4:553. 9:554. 8:255. 1:406. 6:557. 2:408. 1:35