



Resuelve cada problema.

1) Inicio: 7:20

Transcurrido: 1 hr y 35 mins

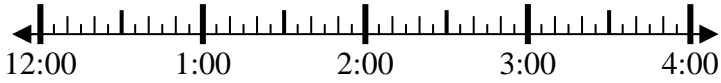
Final: _____



2) Inicio: 12:30

Transcurrido: 1 hr y 25 mins

Final: _____



3) Inicio: 6:05

Transcurrido: 1 hr y 25 mins

Final: _____



4) Inicio: 6:30

Transcurrido: 2 hrs y 10 mins

Final: _____



5) Inicio: 6:45

Transcurrido: 1 hr y 50 mins

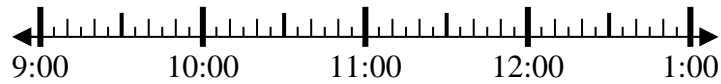
Final: _____



6) Inicio: 9:10

Transcurrido: 1 hr y 55 mins

Final: _____



7) Inicio: 12:15

Transcurrido: 1 hr y 35 mins

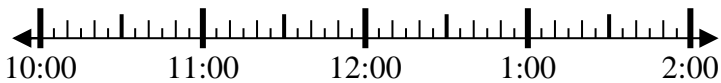
Final: _____



8) Inicio: 10:50

Transcurrido: 2 hrs y 40 mins

Final: _____



Respuestas

1. _____

2. _____

3. _____

4. _____

5. _____

6. _____

7. _____

8. _____



Resuelve cada problema.

1) Inicio: 7:20

Transcurrido: 1 hr y 35 mins

Final: 8:55

2) Inicio: 12:30

Transcurrido: 1 hr y 25 mins

Final: 1:55

3) Inicio: 6:05

Transcurrido: 1 hr y 25 mins

Final: 7:30

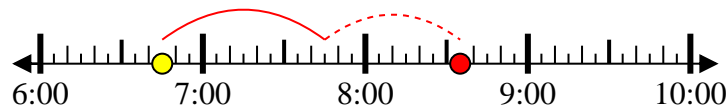
4) Inicio: 6:30

Transcurrido: 2 hrs y 10 mins

Final: 8:40

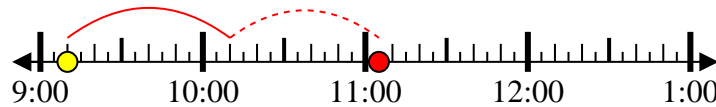
5) Inicio: 6:45

Transcurrido: 1 hr y 50 mins

Final: 8:35

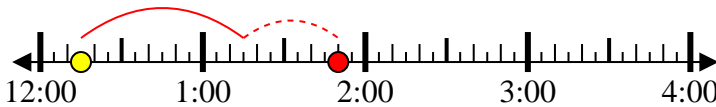
6) Inicio: 9:10

Transcurrido: 1 hr y 55 mins

Final: 11:05

7) Inicio: 12:15

Transcurrido: 1 hr y 35 mins

Final: 1:50

8) Inicio: 10:50

Transcurrido: 2 hrs y 40 mins

Final: 1:30**Respuestas**1. 8:552. 1:553. 7:304. 8:405. 8:356. 11:057. 1:508. 1:30