



**Resuelve cada problema.**

1) Inicio: \_\_\_\_\_

Transcurrido: 1 hr y 40 mins

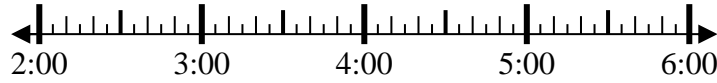
Final: 3:55



2) Inicio: \_\_\_\_\_

Transcurrido: 2 hrs y 45 mins

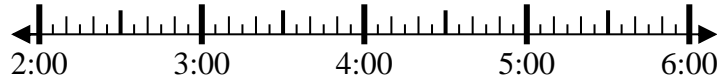
Final: 4:55



3) Inicio: \_\_\_\_\_

Transcurrido: 2 hrs y 10 mins

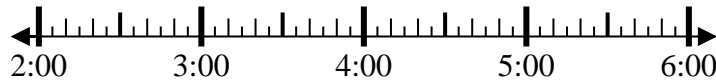
Final: 4:55



4) Inicio: \_\_\_\_\_

Transcurrido: 1 hr y 20 mins

Final: 3:40



5) Inicio: \_\_\_\_\_

Transcurrido: 2 hrs y 25 mins

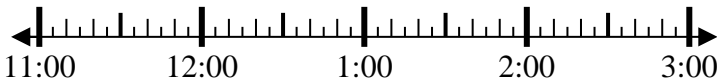
Final: 1:30



6) Inicio: \_\_\_\_\_

Transcurrido: 2 hrs y 20 mins

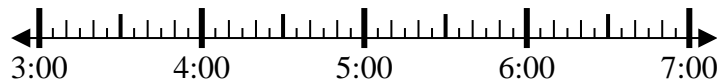
Final: 1:25



7) Inicio: \_\_\_\_\_

Transcurrido: 2 hrs y 20 mins

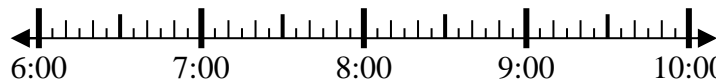
Final: 6:05



8) Inicio: \_\_\_\_\_

Transcurrido: 1 hr y 30 mins

Final: 7:50



**Respuestas**

1. \_\_\_\_\_

2. \_\_\_\_\_

3. \_\_\_\_\_

4. \_\_\_\_\_

5. \_\_\_\_\_

6. \_\_\_\_\_

7. \_\_\_\_\_

8. \_\_\_\_\_



Resuelve cada problema.

1) Inicio: 2:15  
 Transcurrido: 1 hr y 40 mins  
 Final: 3:55

2) Inicio: 2:10  
 Transcurrido: 2 hrs y 45 mins  
 Final: 4:55

3) Inicio: 2:45  
 Transcurrido: 2 hrs y 10 mins  
 Final: 4:55

4) Inicio: 2:20  
 Transcurrido: 1 hr y 20 mins  
 Final: 3:40

5) Inicio: 11:05  
 Transcurrido: 2 hrs y 25 mins  
 Final: 1:30

6) Inicio: 11:05  
 Transcurrido: 2 hrs y 20 mins  
 Final: 1:25

7) Inicio: 3:45  
 Transcurrido: 2 hrs y 20 mins  
 Final: 6:05

8) Inicio: 6:20  
 Transcurrido: 1 hr y 30 mins  
 Final: 7:50

**Respuestas**

1. 2:15
2. 2:10
3. 2:45
4. 2:20
5. 11:05
6. 11:05
7. 3:45
8. 6:20