



Resuelve cada problema.

Respuestas

1) Inicio: _____
 Transcurrido: 2 hrs y 30 mins
 Final: 1:20

1. _____

2) Inicio: _____
 Transcurrido: 1 hr y 25 mins
 Final: 6:35

2. _____

3) Inicio: _____
 Transcurrido: 1 hr y 35 mins
 Final: 1:15

3. _____

4) Inicio: _____
 Transcurrido: 2 hrs y 15 mins
 Final: 6:35

4. _____

5) Inicio: _____
 Transcurrido: 2 hrs y 25 mins
 Final: 7:40

5. _____

6) Inicio: _____
 Transcurrido: 2 hrs y 35 mins
 Final: 12:55

6. _____

7) Inicio: _____
 Transcurrido: 2 hrs y 50 mins
 Final: 3:35

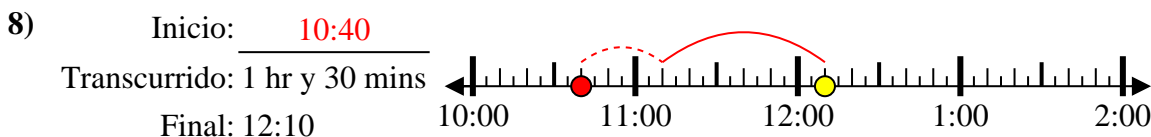
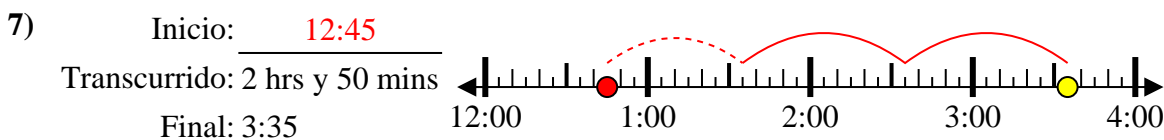
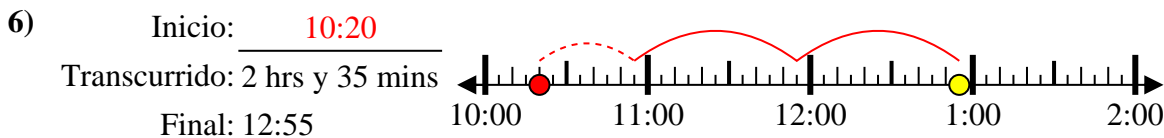
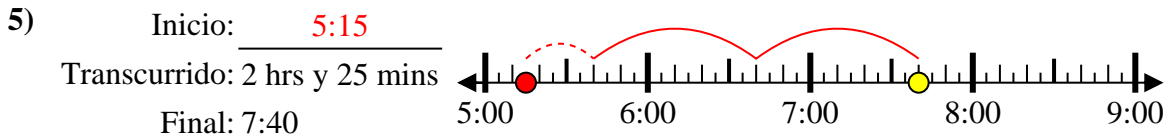
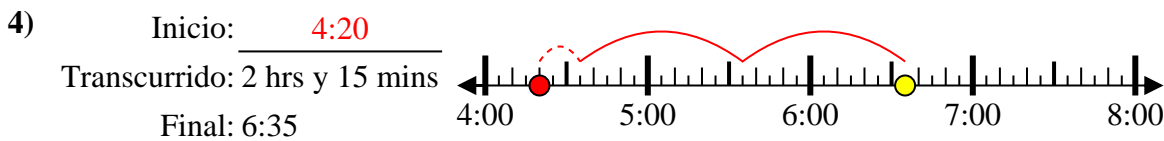
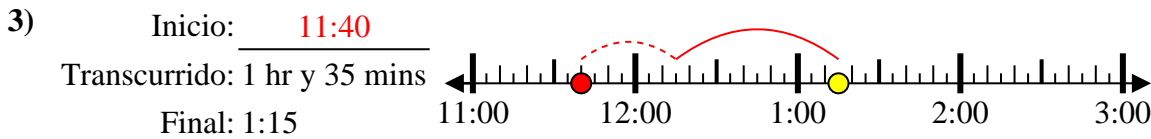
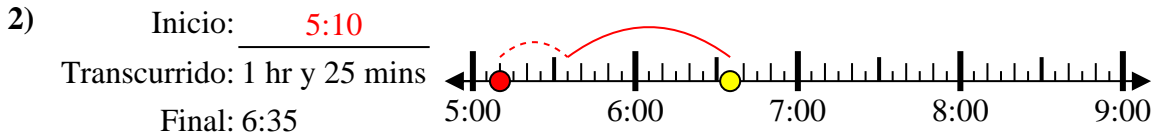
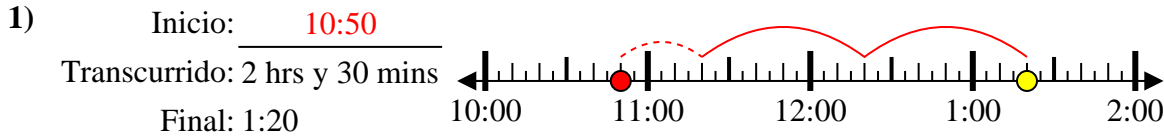
7. _____

8) Inicio: _____
 Transcurrido: 1 hr y 30 mins
 Final: 12:10

8. _____



Resuelve cada problema.



Respuestas

1. 10:50

2. 5:10

3. 11:40

4. 4:20

5. 5:15

6. 10:20

7. 12:45

8. 10:40