




Comparar el número de formas.

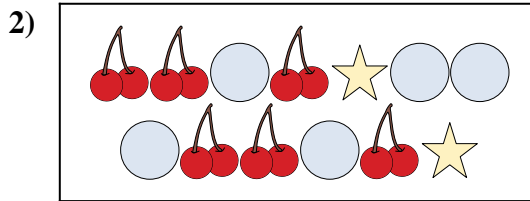
Respuestas



¿Hay más o más ?

A.

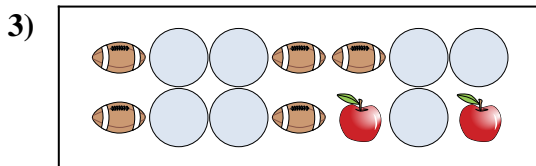
B.



¿Hay más o más ?

A.

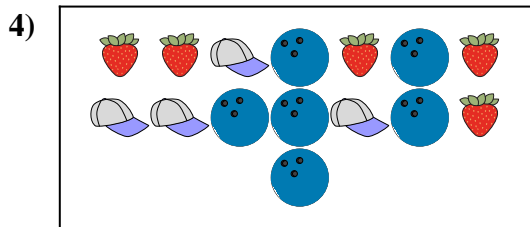
B.



¿Hay más o más ?

A.


B.



¿Hay más o más ?

A.


B.



¿Hay menos o menos ?

A.

B.



¿Hay menos o menos ?

A.


B.

1. _____
2. _____
3. _____
4. _____
5. _____
6. _____



Comparar el número de formas.

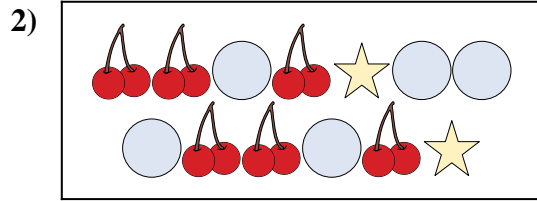
Respuestas



¿Hay más o más ?

A.

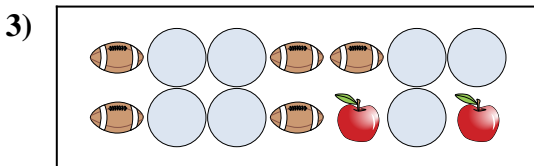
B.



¿Hay más o más ?

A.

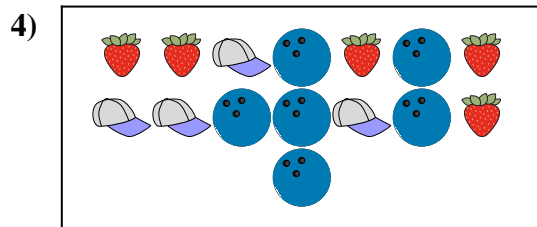
B.



¿Hay más o más ?

A.


B.



¿Hay más o más ?

A.


B.



¿Hay menos o menos ?

A.

B.



¿Hay menos o menos ?

A.

B.

- 1. **B**
- 2. **A**
- 3. **A**
- 4. **B**
- 5. **B**
- 6. **B**