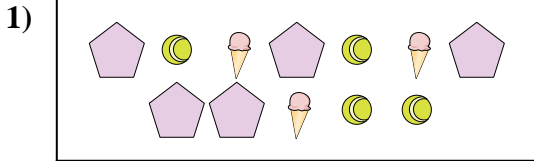




Comparar el número de formas.

Respuestas



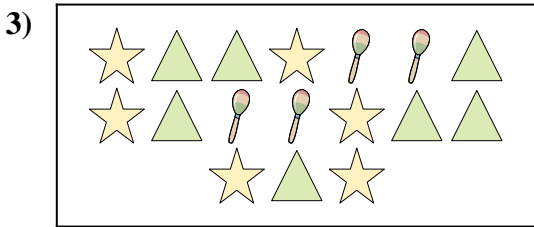
¿Hay menos o menos ?

- A.
- B.




¿Hay más o más ?

- A.
- B.




¿Hay menos o menos ?

- A.
- B.



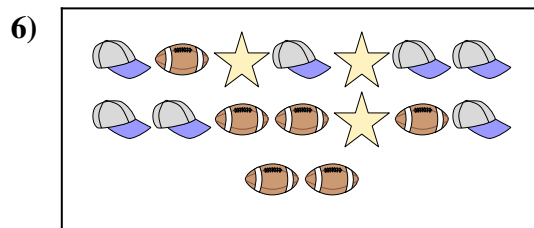
¿Hay menos o menos ?

- A.
- B.



¿Hay menos o menos ?

- A.
- B.



¿Hay menos o menos ?

- A.
- B.

1. \_\_\_\_\_

2. \_\_\_\_\_

3. \_\_\_\_\_

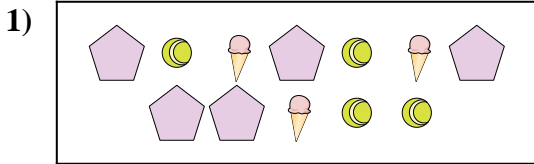
4. \_\_\_\_\_

5. \_\_\_\_\_

6. \_\_\_\_\_




Comparar el número de formas.



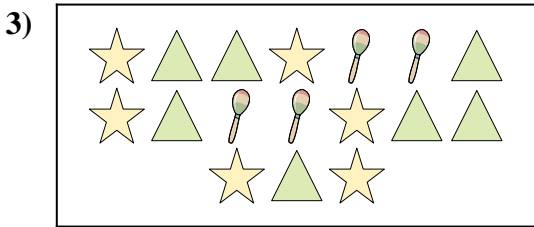
¿Hay menos o menos ?

- A.
- B.




¿Hay más o más ?

- A.
- B.




¿Hay menos o menos ?

- A.
- B.



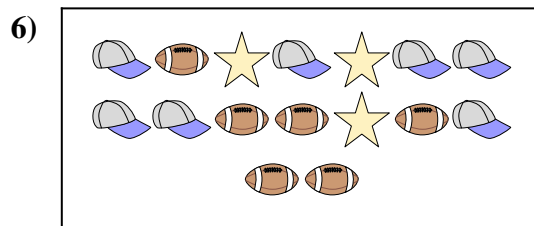
¿Hay menos o menos ?

- A.
- B.



¿Hay menos o menos ?

- A.
- B.



¿Hay menos o menos ?

- A.
- B.

**Respuestas**

- 1.     **A**
- 2.     **A**
- 3.     **B**
- 4.     **B**
- 5.     **A**
- 6.     **B**