





Comparar el número de formas.

Respuestas




¿Hay más o más ?

- A.
- B.




¿Hay más o más ?

- A.
- B.



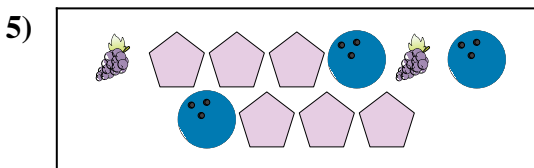
¿Hay menos o menos ?

- A.
- B.




¿Hay menos o menos ?

- A.
- B.



¿Hay menos o menos ?

- A.
- B.



¿Hay menos o menos ?


- A.
- B.

- 1. \_\_\_\_\_
- 2. \_\_\_\_\_
- 3. \_\_\_\_\_
- 4. \_\_\_\_\_
- 5. \_\_\_\_\_
- 6. \_\_\_\_\_




Comparar el número de formas.

Respuestas




¿Hay más o más ?

- A.
- B.




¿Hay más o más ?

- A.
- B.



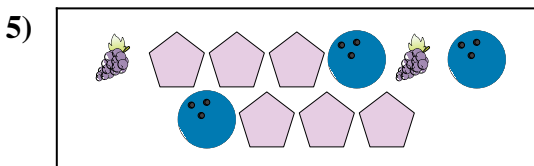
¿Hay menos o menos ?

- A.
- B.




¿Hay menos o menos ?

- A.
- B.



¿Hay menos o menos ?

- A.
- B.



¿Hay menos o menos ?

- A.
- B.

- 1.     **B**
- 2.     **B**
- 3.     **A**
- 4.     **A**
- 5.     **B**
- 6.     **B**