





Comparar el número de formas.

Respuestas



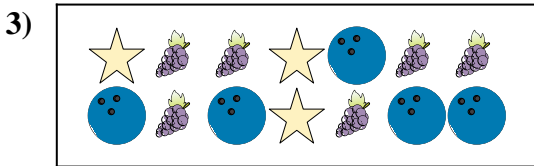
¿Hay más o más ?

- A.
- B.




¿Hay menos o menos ?

- A.
- B.




¿Hay menos o menos ?

- A.
- B.



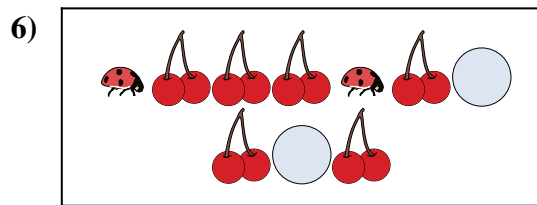
¿Hay menos o menos ?

- A.
- B.



¿Hay más o más ?

- A.
- B.



¿Hay menos o menos ?

- A.
- B.

1. _____

2. _____

3. _____

4. _____


5. _____

6. _____




Comparar el número de formas.

Respuestas



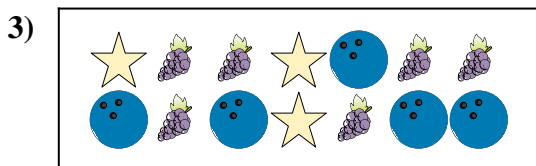
¿Hay más o más ?

- A.
- B.




¿Hay menos o menos ?

- A.
- B.




¿Hay menos o menos ?

- A.
- B.



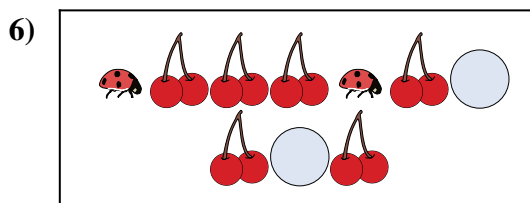
¿Hay menos o menos ?

- A.
- B.



¿Hay más o más ?

- A.
- B.



¿Hay menos o menos ?

- A.
- B.

- 1. **B**
- 2. **B**
- 3. **B**
- 4. **B**
- 5. **A**
- 6. **B**