





Comparar el número de formas.


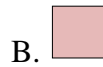
Respuestas



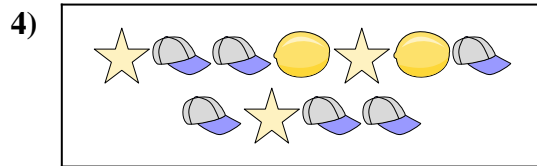
¿Hay menos o menos ?




¿Hay más o más ?




¿Hay más o más ?



¿Hay más o más ?



¿Hay menos o menos ?




¿Hay menos o menos ?



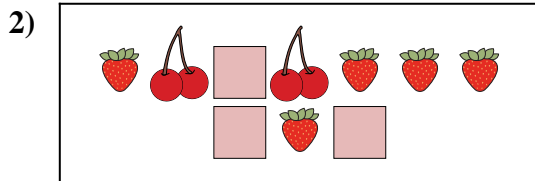
1. _____
2. _____
3. _____
4. _____
5. _____
6. _____




Comparar el número de formas.



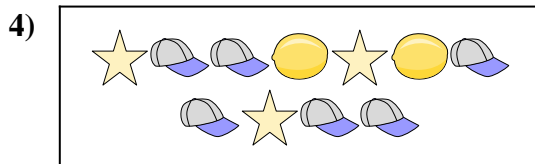
¿Hay menos o menos ?




¿Hay más o más ?



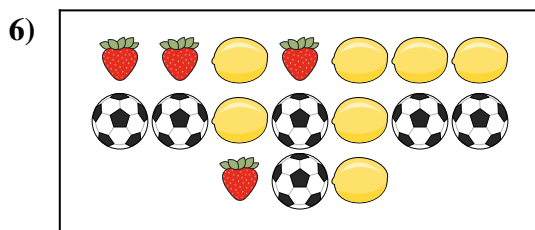
¿Hay más o más ?



¿Hay más o más ?



¿Hay menos o menos ?



¿Hay menos o menos ?



Respuestas

1. **A**

2. **A**

3. **A**

4. **B**

5. **B**

6. **A**