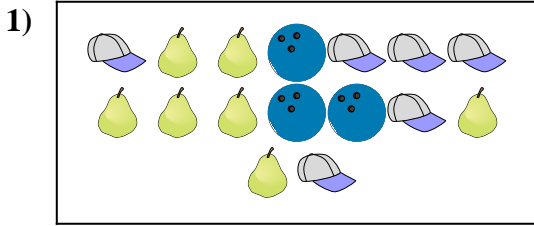







Comparar el número de formas.

Respuestas





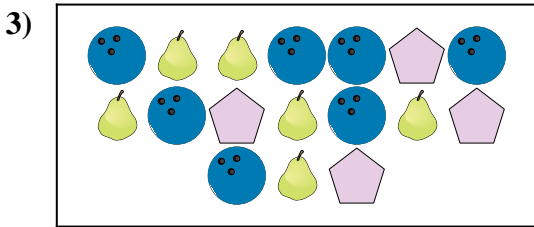
¿Hay menos  o menos  ?

- A. 
- B. 





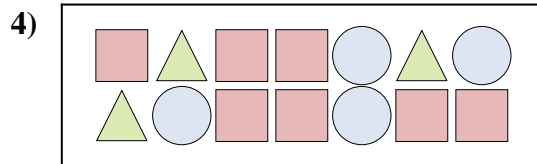
¿Hay menos  o menos  ?

- A. 
- B. 






¿Hay más  o más  ?

- A. 
- B. 






¿Hay más  o más  ?

- A. 
- B. 





¿Hay más  o más  ?

- A. 
- B. 



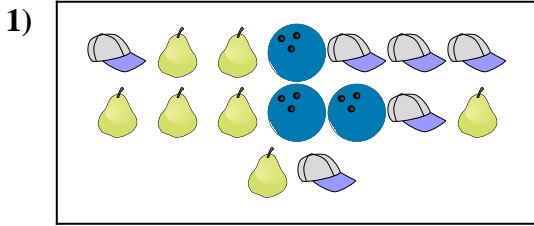
¿Hay menos  o menos  ?

- A. 
- B. 

- 1. _____
- 2. _____
- 3. _____
- 4. _____
- 5. _____
- 6. _____




Comparar el número de formas.



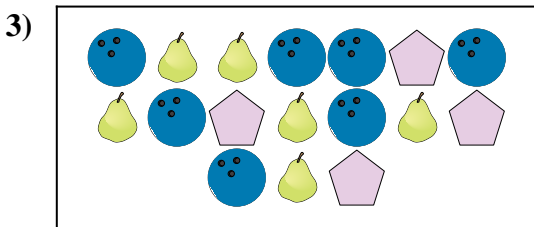
¿Hay menos o menos ?

- A.
- B.



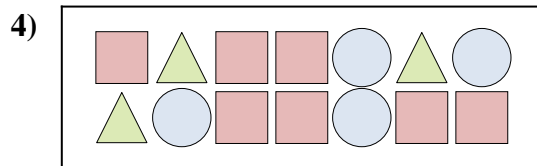
¿Hay menos o menos ?

- A.
- B.




¿Hay más o más ?

- A.
- B.




¿Hay más o más ?

- A.
- B.



¿Hay más o más ?

- A.
- B.



¿Hay menos o menos ?

- A.
- B.

Respuestas

- 1. **B**
- 2. **A**
- 3. **A**
- 4. **A**
- 5. **A**
- 6. **A**