




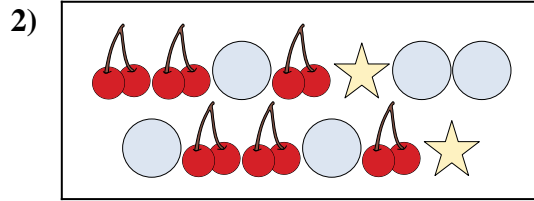
Comparar el número de formas.

Respuestas



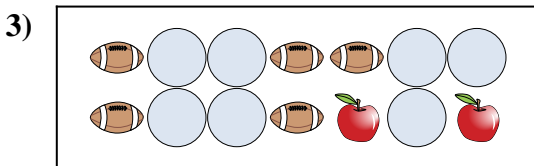
¿Hay más o más ?

- A.
- B.



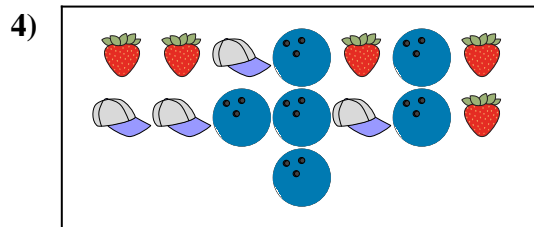
¿Hay más o más ?

- A.
- B.




¿Hay más o más ?

- A.
- B.




¿Hay más o más ?

- A.
- B.



¿Hay menos o menos ?

- A.
- B.



¿Hay menos o menos ?

- A.
- B.

1. \_\_\_\_\_

2. \_\_\_\_\_

3. \_\_\_\_\_

4. \_\_\_\_\_


5. \_\_\_\_\_

6. \_\_\_\_\_



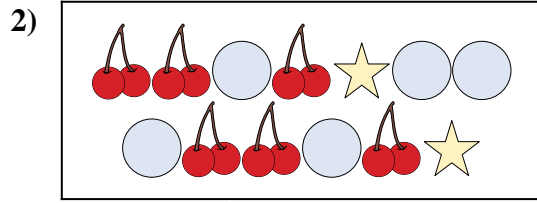
Comparar el número de formas.

Respuestas



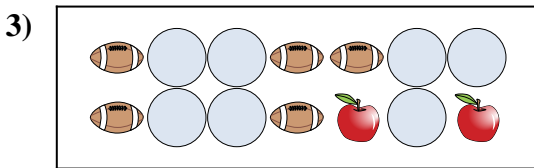
¿Hay más o más ?

- A.
- B.



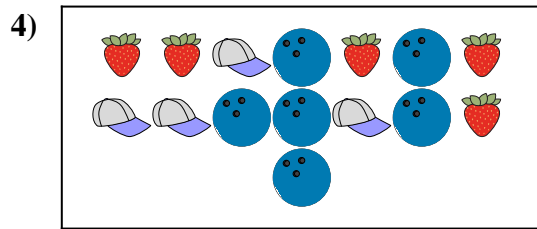
¿Hay más o más ?

- A.
- B.




¿Hay más o más ?

- A.
- B.




¿Hay más o más ?

- A.
- B.



¿Hay menos o menos ?

- A.
- B.



¿Hay menos o menos ?


- A.
- B.

- 1.     **B**
- 2.     **A**
- 3.     **A**
- 4.     **B**
- 5.     **B**
- 6.     **B**




Comparar el número de formas.

Respuestas




¿Hay más o más ?

- A.
- B.




¿Hay más o más ?

- A.
- B.



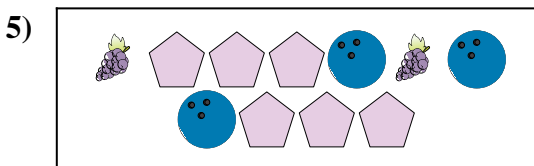
¿Hay menos o menos ?

- A.
- B.




¿Hay menos o menos ?

- A.
- B.



¿Hay menos o menos ?

- A.
- B.



¿Hay menos o menos ?


- A.
- B.

- 1. \_\_\_\_\_
- 2. \_\_\_\_\_
- 3. \_\_\_\_\_
- 4. \_\_\_\_\_
- 5. \_\_\_\_\_
- 6. \_\_\_\_\_




Comparar el número de formas.

Respuestas




¿Hay más o más ?

- A.
- B.




¿Hay más o más ?

- A.
- B.



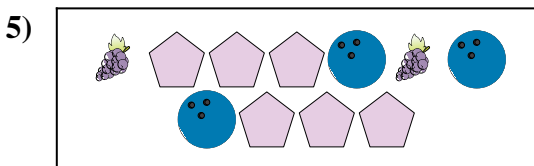
¿Hay menos o menos ?

- A.
- B.




¿Hay menos o menos ?

- A.
- B.



¿Hay menos o menos ?

- A.
- B.



¿Hay menos o menos ?


- A.
- B.

- 1.     **B**
- 2.     **B**
- 3.     **A**
- 4.     **A**
- 5.     **B**
- 6.     **B**




Comparar el número de formas.

Respuestas



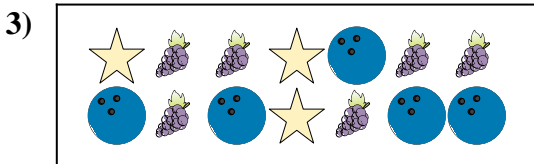
¿Hay más o más ?

- A.
- B.




¿Hay menos o menos ?

- A.
- B.




¿Hay menos o menos ?

- A.
- B.



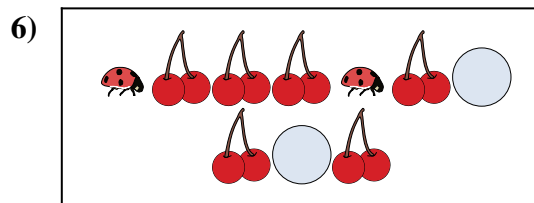
¿Hay menos o menos ?

- A.
- B.



¿Hay más o más ?

- A.
- B.



¿Hay menos o menos ?

- A.
- B.

1. \_\_\_\_\_

2. \_\_\_\_\_

3. \_\_\_\_\_

4. \_\_\_\_\_


5. \_\_\_\_\_

6. \_\_\_\_\_




Comparar el número de formas.

Respuestas



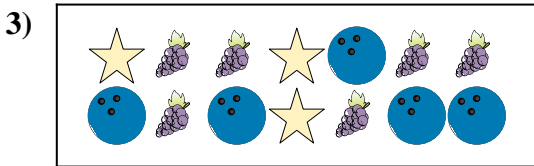
¿Hay más o más ?

- A.
- B.




¿Hay menos o menos ?

- A.
- B.




¿Hay menos o menos ?

- A.
- B.



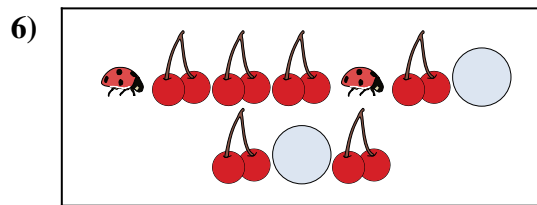
¿Hay menos o menos ?

- A.
- B.



¿Hay más o más ?

- A.
- B.



¿Hay menos o menos ?

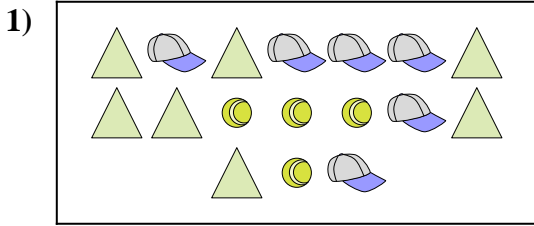
- A.
- B.

- 1.     **B**
- 2.     **B**
- 3.     **B**
- 4.     **B**
- 5.     **A**
- 6.     **B**




Comparar el número de formas.

Respuestas




¿Hay más o más ?

- A.
- B.



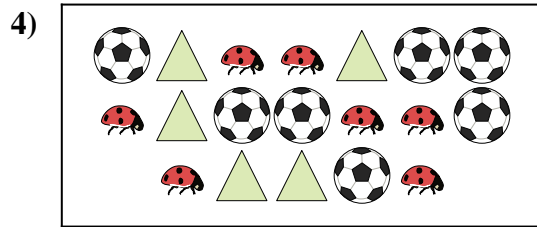
¿Hay menos o menos ?

- A.
- B.



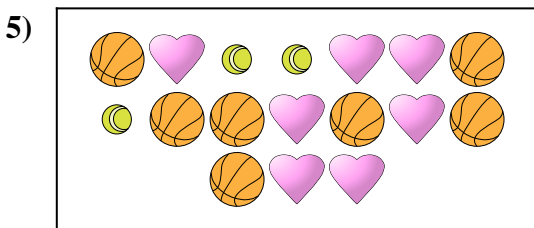
¿Hay menos o menos ?

- A.
- B.




¿Hay menos o menos ?

- A.
- B.



¿Hay menos o menos ?

- A.
- B.



¿Hay menos o menos ?

- A.
- B.

1. \_\_\_\_\_

2. \_\_\_\_\_

3. \_\_\_\_\_

4. \_\_\_\_\_

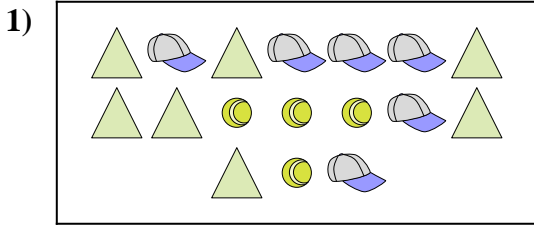
5. \_\_\_\_\_

6. \_\_\_\_\_




Comparar el número de formas.

Respuestas




¿Hay más o más ?

- A.
- B.



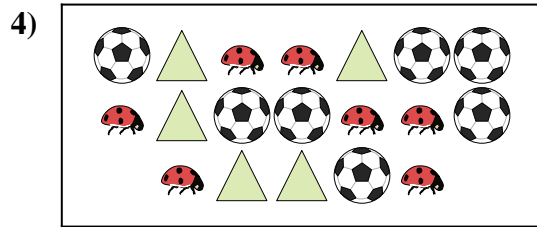
¿Hay menos o menos ?

- A.
- B.




¿Hay menos o menos ?

- A.
- B.




¿Hay menos o menos ?

- A.
- B.



¿Hay menos o menos ?

- A.
- B.



¿Hay menos o menos ?

- A.
- B.


- 1.     **A**
- 2.     **A**
- 3.     **A**
- 4.     **A**
- 5.     **A**
- 6.     **A**






Comparar el número de formas.

Respuestas




¿Hay más o más ?

- A.
- B.




¿Hay más o más ?

- A.
- B.




¿Hay menos o menos ?

- A.
- B.



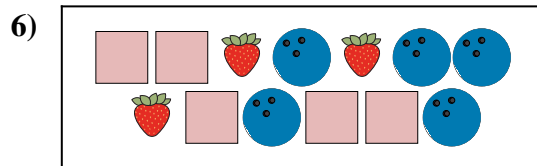
¿Hay más o más ?

- A.
- B.



¿Hay menos o menos ?

- A.
- B.



¿Hay más o más ?

- A.
- B.

1. \_\_\_\_\_

2. \_\_\_\_\_

3. \_\_\_\_\_


4. \_\_\_\_\_

5. \_\_\_\_\_

6. \_\_\_\_\_




Comparar el número de formas.



¿Hay más o más ?

A.


B.



¿Hay más o más ?

A.


B.



¿Hay menos o menos ?

A.


B.



¿Hay más o más ?

A.

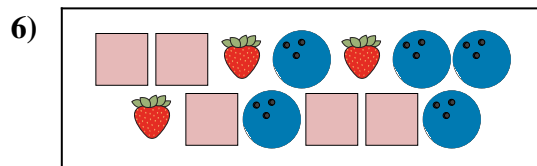
B.



¿Hay menos o menos ?

A.

B.



¿Hay más o más ?

A.

B.

**Respuestas**

1. **A**

2. **B**

3. **B**

4. **B**


5. **A**

6. **B**




Comparar el número de formas.

Respuestas




¿Hay menos o menos ?

- A.
- B.



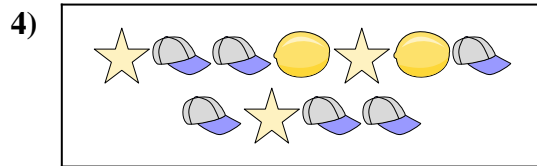
¿Hay más o más ?

- A.
- B.




¿Hay más o más ?

- A.
- B.




¿Hay más o más ?

- A.
- B.



¿Hay menos o menos ?

- A.
- B.




¿Hay menos o menos ?

- A.
- B.

- 1. \_\_\_\_\_
- 2. \_\_\_\_\_
- 3. \_\_\_\_\_
- 4. \_\_\_\_\_
- 5. \_\_\_\_\_
- 6. \_\_\_\_\_




Comparar el número de formas.




¿Hay menos o menos ?

- A.
- B.



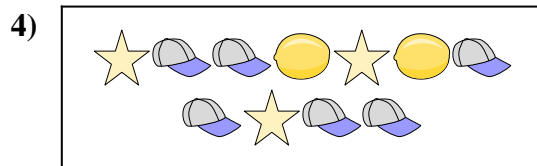
¿Hay más o más ?

- A.
- B.




¿Hay más o más ?

- A.
- B.



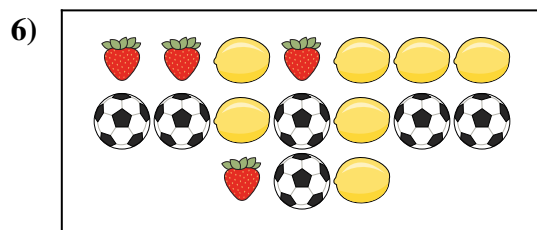
¿Hay más o más ?

- A.
- B.



¿Hay menos o menos ?

- A.
- B.



¿Hay menos o menos ?

- A.
- B.

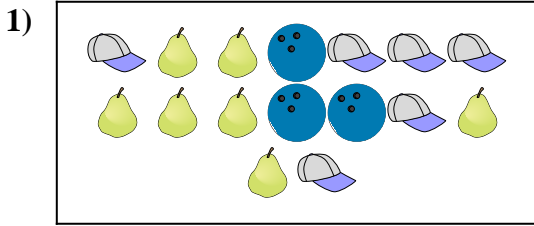
Respuestas

- 1.     **A**
- 2.     **A**
- 3.     **A**
- 4.     **B**
- 5.     **B**
- 6.     **A**






Comparar el número de formas.

Respuestas





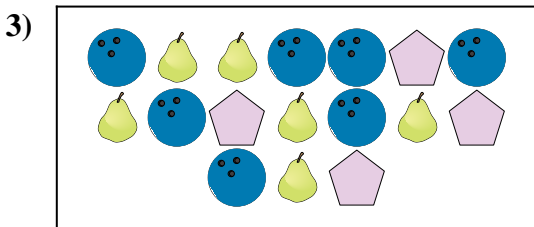
¿Hay menos  o menos  ?

- A. 
- B. 





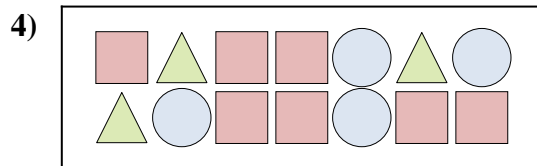
¿Hay menos  o menos  ?



- A. 
- B. 






¿Hay más  o más  ?



- A. 
- B. 






¿Hay más  o más  ?

- A. 
- B. 





¿Hay más  o más  ?

- A. 
- B. 



¿Hay menos  o menos  ?

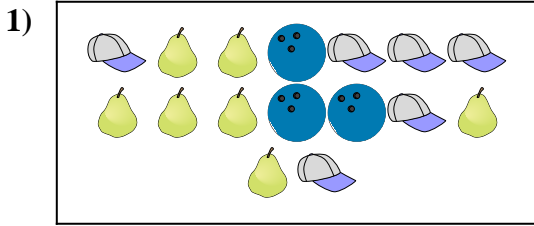
- A. 
- B. 

- 1. \_\_\_\_\_
- 2. \_\_\_\_\_
- 3. \_\_\_\_\_
- 4. \_\_\_\_\_
- 5. \_\_\_\_\_
- 6. \_\_\_\_\_




Comparar el número de formas.

Respuestas



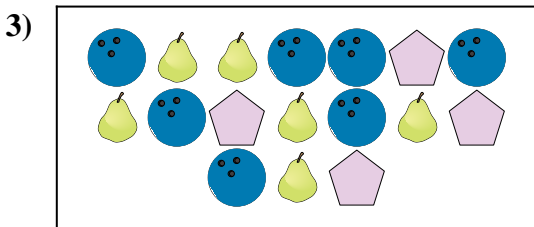
¿Hay menos o menos ?

- A.
- B.



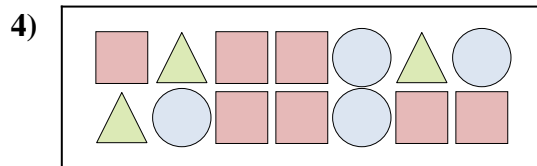
¿Hay menos o menos ?

- A.
- B.




¿Hay más o más ?

- A.
- B.




¿Hay más o más ?

- A.
- B.



¿Hay más o más ?

- A.
- B.



¿Hay menos o menos ?

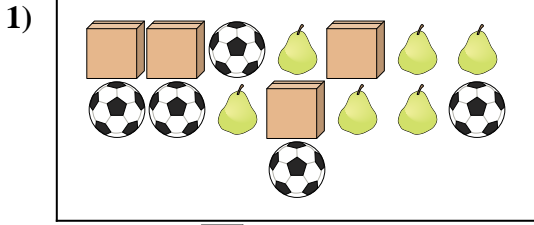
- A.
- B.

- 1.     **B**
- 2.     **A**
- 3.     **A**
- 4.     **A**
- 5.     **A**
- 6.     **A**





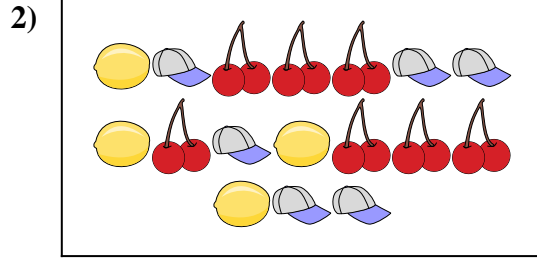
Comparar el número de formas.

Respuestas





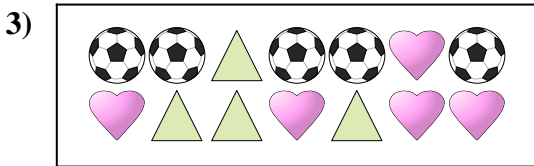
¿Hay más  o más ?

- A. 
- B. 






¿Hay menos  o menos ?

- A. 
- B. 




¿Hay menos  o menos ?

- A. 
- B. 





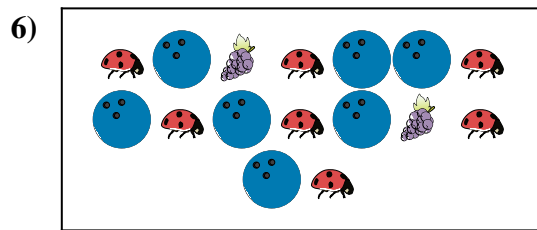
¿Hay menos  o menos ?

- A. 
- B. 





¿Hay más  o más ?

- A. 
- B. 



¿Hay más  o más ?

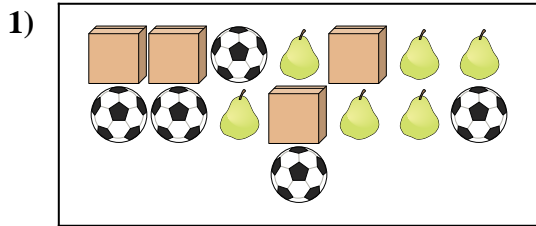
- A. 
- B. 

- 1. \_\_\_\_\_
- 2. \_\_\_\_\_
- 3. \_\_\_\_\_
- 4. \_\_\_\_\_
- 5. \_\_\_\_\_
- 6. \_\_\_\_\_



Comparar el número de formas.

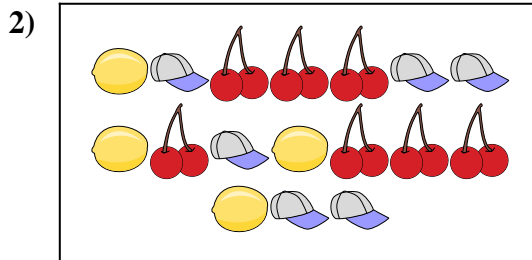
Respuestas



¿Hay más  o más ?


A. 

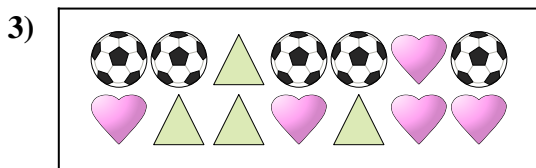
B. 




¿Hay menos  o menos ?

A. 


B. 



¿Hay menos  o menos ?

A. 


B. 



¿Hay menos  o menos ?

A. 

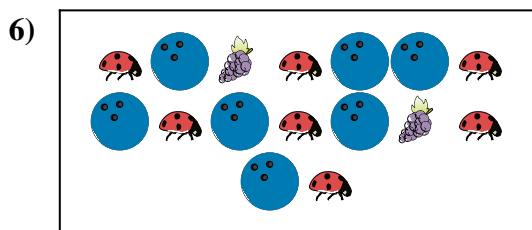
B. 



¿Hay más  o más ?

A. 

B. 



¿Hay más  o más ?

A. 

B. 


1.     **B**
2.     **A**
3.     **A**
4.     **A**
5.     **B**
6.     **B**






Comparar el número de formas.

Respuestas



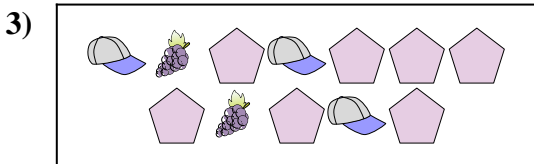
¿Hay más o más ?

- A.
- B.



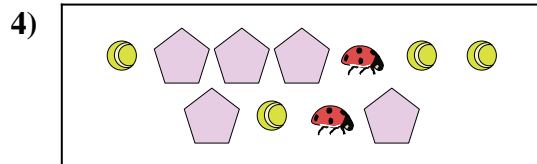
¿Hay menos o menos ?

- A.
- B.



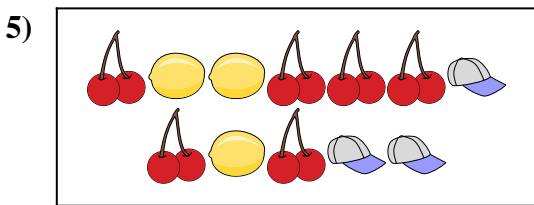
¿Hay menos o menos ?

- A.
- B.




¿Hay más o más ?

- A.
- B.



¿Hay menos o menos ?

- A.
- B.



¿Hay más o más ?


- A.
- B.

- 1. \_\_\_\_\_
- 2. \_\_\_\_\_
- 3. \_\_\_\_\_
- 4. \_\_\_\_\_
- 5. \_\_\_\_\_
- 6. \_\_\_\_\_




Comparar el número de formas.

Respuestas



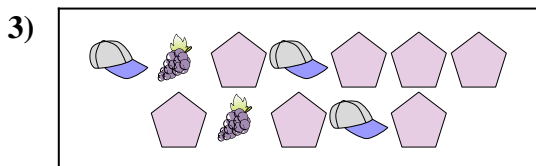
¿Hay más o más ?

- A.
- B.



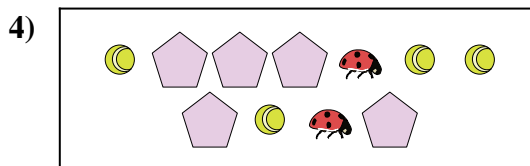
¿Hay menos o menos ?

- A.
- B.



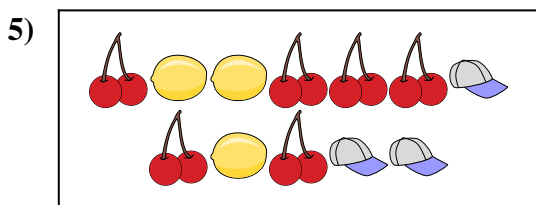
¿Hay menos o menos ?

- A.
- B.



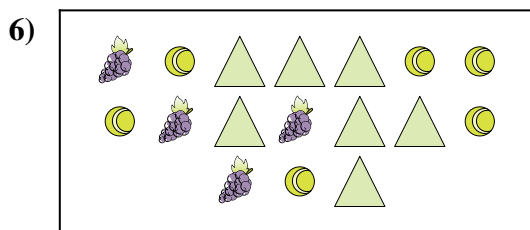
¿Hay más o más ?

- A.
- B.



¿Hay menos o menos ?

- A.
- B.



¿Hay más o más ?

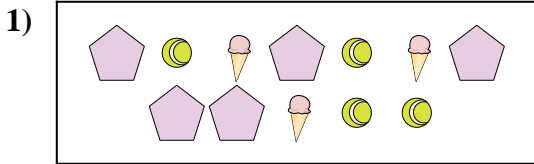
- A.
- B.

- 1.     **A**
- 2.     **A**
- 3.     **B**
- 4.     **B**
- 5.     **B**
- 6.     **B**




Comparar el número de formas.

Respuestas



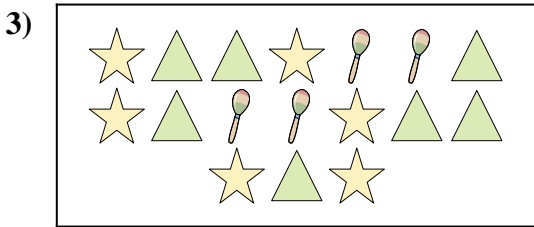
¿Hay menos o menos ?

- A.
- B.




¿Hay más o más ?

- A.
- B.




¿Hay menos o menos ?

- A.
- B.



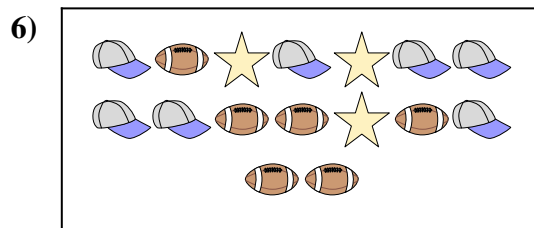
¿Hay menos o menos ?

- A.
- B.



¿Hay menos o menos ?

- A.
- B.



¿Hay menos o menos ?

- A.
- B.

1. \_\_\_\_\_

2. \_\_\_\_\_

3. \_\_\_\_\_

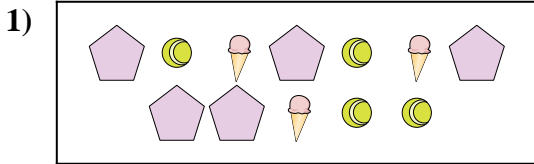
4. \_\_\_\_\_

5. \_\_\_\_\_

6. \_\_\_\_\_




Comparar el número de formas.



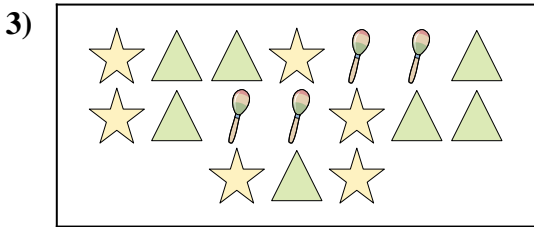
¿Hay menos o menos ?

- A.
- B.




¿Hay más o más ?

- A.
- B.




¿Hay menos o menos ?

- A.
- B.



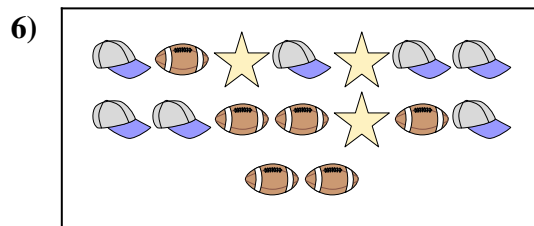
¿Hay menos o menos ?

- A.
- B.



¿Hay menos o menos ?

- A.
- B.



¿Hay menos o menos ?

- A.
- B.

**Respuestas**

- 1.     **A**
- 2.     **A**
- 3.     **B**
- 4.     **B**
- 5.     **A**
- 6.     **B**