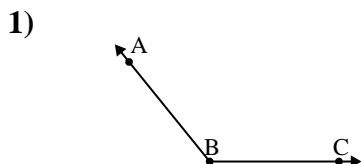


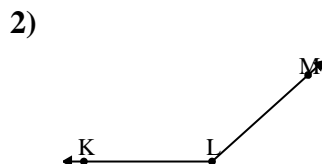


Resuelve cada problema.

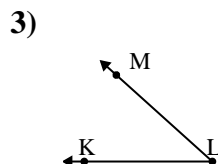
Respuestas



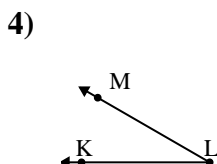
¿Que opción representa mejor $\angle ABC$?
 A. 129°
 B. 48°
 C. 153°
 D. 175°



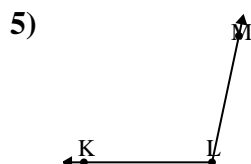
¿Que opción representa mejor $\angle KLM$?
 A. 176°
 B. 66°
 C. 40°
 D. 138°



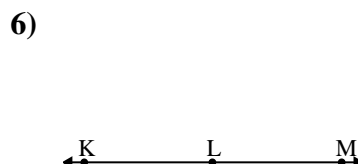
¿Que opción representa mejor $\angle KLM$?
 A. 148°
 B. 126°
 C. 42°
 D. 94°



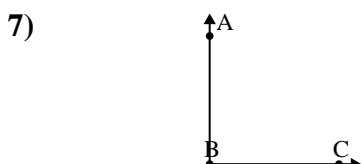
¿Que opción representa mejor $\angle KLM$?
 A. 30°
 B. 7°
 C. 156°
 D. 66°



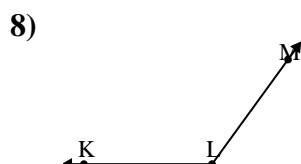
¿Que opción representa mejor $\angle KLM$?
 A. 129°
 B. 102°
 C. 13°
 D. 56°



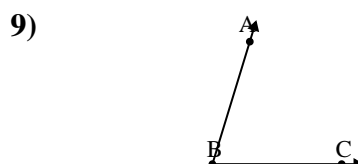
¿Que opción representa mejor $\angle KLM$?
 A. 28°
 B. 146°
 C. 2°
 D. 180°



¿Que opción representa mejor $\angle ABC$?
 A. 35°
 B. 90°
 C. 172°
 D. 62°



¿Que opción representa mejor $\angle KLM$?
 A. 67°
 B. 153°
 C. 18°
 D. 126°

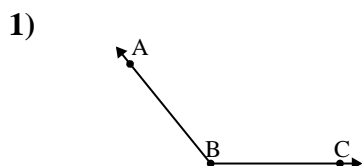


¿Que opción representa mejor $\angle ABC$?
 A. 123°
 B. 42°
 C. 157°
 D. 73°

1. _____
2. _____
3. _____
4. _____
5. _____
6. _____
7. _____
8. _____
9. _____

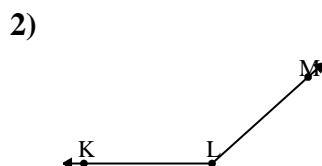


Resuelve cada problema.



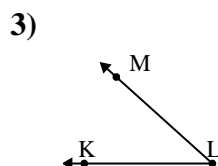
¿Que opción representa mejor $\angle ABC$?

A. 129°
 B. 48°
 C. 153°
 D. 175°



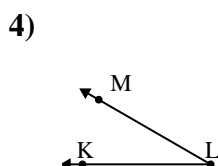
¿Que opción representa mejor $\angle KLM$?

A. 176°
 B. 66°
 C. 40°
 D. 138°



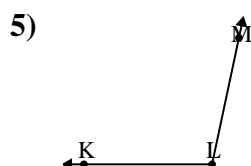
¿Que opción representa mejor $\angle KLM$?

A. 148°
 B. 126°
 C. 42°
 D. 94°



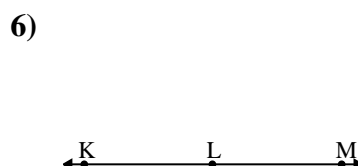
¿Que opción representa mejor $\angle KLM$?

A. 30°
 B. 7°
 C. 156°
 D. 66°



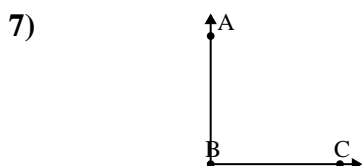
¿Que opción representa mejor $\angle KLM$?

A. 129°
 B. 102°
 C. 13°
 D. 56°



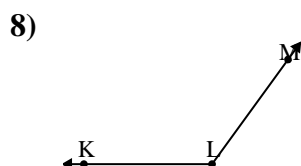
¿Que opción representa mejor $\angle KLM$?

A. 28°
 B. 146°
 C. 2°
 D. 180°



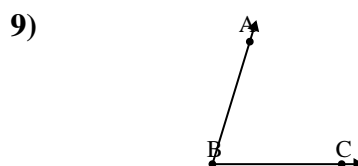
¿Que opción representa mejor $\angle ABC$?

A. 35°
 B. 90°
 C. 172°
 D. 62°



¿Que opción representa mejor $\angle KLM$?

A. 67°
 B. 153°
 C. 18°
 D. 126°



¿Que opción representa mejor $\angle ABC$?

A. 123°
 B. 42°
 C. 157°
 D. 73°

Respuestas

1. **A**
2. **D**
3. **C**
4. **A**
5. **B**
6. **D**
7. **B**
8. **D**
9. **D**